

TRƯỜNG ĐH NGOẠI NGỮ - ĐHQGHN
TRƯỜNG TRUNG HỌC CƠ SỞ NGOẠI NGỮ



BỘ ĐỀ ĐÁNH GIÁ NĂNG LỰC ÔN THI VÀO LỚP 6

(LƯU HÀNH NỘI BỘ)



HÀ NỘI, 2023

Cấu trúc đề thi

Thời gian: 100 phút

Số bài kiểm tra: 02

- **Bài Trắc nghiệm: 40 câu - 50 phút**
- **Bài Tự luận: 3 phần – 50 phút**

Nội dung kiến thức kiểm tra: Thuộc chương trình giáo dục tiểu học, chủ yếu nằm trong chương trình lớp 5 hiện hành của BGDĐT.

Thang điểm đánh giá: 80 điểm

A. TRẮC NGHIỆM

Thí sinh chọn 01 đáp án đúng nhất trong 04 lựa chọn cho sẵn để trả lời mỗi câu hỏi

PHẦN 1. PHẦN ĐÁNH GIÁ NĂNG LỰC KHTN&TOÁN

TOÁN (5 câu)

Nội dung có thể liên quan tới: Số tự nhiên, phân số, hỗn số... Đại lượng độ dài, khối lượng, diện tích... Toán về chuyển động đều, bài toán về quan hệ tỉ lệ...

KHOA HỌC TỰ NHIÊN (5 câu)

Nội dung có thể liên quan tới: Sự trao đổi chất..., Cách phòng tránh một số bệnh thông thường..., Đặc điểm và ứng dụng của một số chất, một số vật liệu và nguồn năng lượng thường gặp trong đời sống và sản xuất..., Quy tắc vệ sinh, an toàn cho bản thân...

PHẦN 2. PHẦN ĐÁNH GIÁ NĂNG LỰC KHXH&TIẾNG VIỆT

TIẾNG VIỆT (5 câu)

Nội dung có thể liên quan tới: Kiến thức về ngữ âm và chữ viết..., Kiến thức về cấu tạo ba phần của văn bản..., Kỹ năng đọc hiểu nội dung, ý nghĩa của văn bản...

KHOA HỌC XÃ HỘI (5 câu)

Nội dung có thể liên quan tới: Các kiến thức và kĩ năng cơ bản, thiết yếu về địa lí, lịch sử..., Khả năng vận dụng kiến thức vào thực tiễn..., Kiến thức cơ bản về một số chuẩn mực hành vi đạo đức..., Kĩ năng nhận xét, đánh giá hành vi của bản thân...

PHẦN 3. PHẦN ĐÁNH GIÁ NĂNG LỰC TIẾNG ANH

- Hoàn thành câu (4 câu)
- Điền thông tin vào hộ thoại (3 câu)
- Đọc và điền từ cho sẵn vào chỗ trống (5 câu)
- Đọc và trả lời câu hỏi (5 câu)
- Viết lại câu (3 câu)

B. TỰ LUẬN

PHẦN 1. PHẦN ĐÁNH GIÁ NĂNG LỰC TOÁN (1 bài)

PHẦN 2. PHẦN ĐÁNH GIÁ NĂNG LỰC TIẾNG VIỆT

Viết 01 đoạn văn ngắn (khoảng 100 từ) về một chủ đề cho sẵn

PHẦN 3. PHẦN ĐÁNH GIÁ NĂNG LỰC TIẾNG ANH

Bài 1: Viết miêu tả thông tin về một hình ảnh được cung cấp (khoảng 80 từ)

Bài 2: Viết 01 đoạn văn ngắn (khoảng 100 từ) về một chủ đề cho sẵn

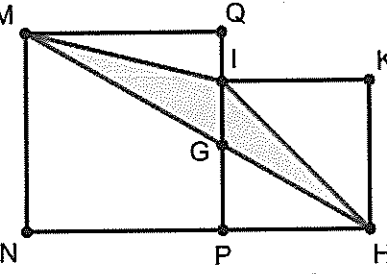


GOOD LUCK



ĐỀ SỐ 1

I. TRẮC NGHIỆM (50 phút)

- Câu 1. Huyền ăn $\frac{1}{10}$ chiếc bánh pizza, sau đó chia đều $\frac{1}{3}$ phần bánh còn lại cho bốn người bạn của bạn ấy. Phân số thể hiện số phần bánh mỗi người bạn của Huyền nhận được là
 A. $\frac{1}{12}$ B. $\frac{3}{10}$ C. $\frac{3}{40}$ D. $\frac{9}{40}$
- Câu 2. Hai lần tuổi cô hơn tổng số tuổi của hai cô cháu là 22 tuổi. Hiệu số tuổi của hai cô cháu hơn tuổi cháu là 8 tuổi. Số tuổi của cô là
 A. 40 tuổi B. 36 tuổi C. 22 tuổi D. 14 tuổi
- Câu 3. Tỉ số giữa số học sinh nữ và số học sinh nam một trường là $\frac{5}{4}$. Nếu nhận 30 học sinh nữ từ trường khác đến thì tỉ số giữa số học sinh nữ và số học sinh nam trở thành $\frac{21}{16}$. Số học sinh nữ của trường ban đầu là
 A. 480 B. 540 C. 600 D. 660
- Câu 4. Một bể cá hình lập phương có cạnh 30 cm đã sử dụng 50% thể tích bể để chứa nước. Một lượng nước bị bốc hơi làm mực nước trong bể giảm đi 80mm. Thể tích lượng nước còn lại trong bể là
 A. 6 300 cm³ B. 7 200 cm³ C. 8 100 cm³ D. 13 500 cm³
- Câu 5. Trong hình vẽ, MNPQ và IPHK là hai hình vuông. Biết IK = 18 cm, diện tích tam giác MIH là

 A. 324 cm² B. 216 cm² C. 192 cm² D. 162 cm².
- Câu 6. Nhóm các chất nào sau đây **không** dẫn điện?
 A. Đồng, gỗ khô, nước tinh khiết B. Gôm, nhựa, nước sinh hoạt
 C. Sắt, thép, tơ tằm D. Gỗ khô, sứ, thủy tinh
- Câu 7. Rót nước vào một cốc sứ rồi lấy nắp đậy lại, sau một thời gian mở cốc ra ta thấy các giọt nước đọng trên nắp cốc. Trong hiện tượng này đã xảy ra các quá trình chuyển thể nào dưới đây?
 A. Bay hơi và ngưng tụ B. Bay hơi và nóng chảy
 C. Ngưng tụ và đông đặc D. Bay hơi và đông đặc
- Câu 8. Vai trò của hệ tuần hoàn là
 A. giúp cơ thể trao đổi khí.
 B. tiêu hoá và hấp thụ dinh dưỡng từ thức ăn.
 C. vận chuyển chất dinh dưỡng đến các cơ quan.
 D. điều khiển các hoạt động của cơ thể.
- Câu 9. Với trẻ em mắc bệnh về mắt, các bác sĩ thường khuyên cha mẹ nên bổ sung thêm đồ ăn cho con có nhiều
 A. vitamin A B. vitamin B C. vitamin C D. vitamin D
- Câu 10. Trong điều kiện thời tiết giá lạnh, khi gieo hạt người ta thường che chắn bằng nilon hoặc phủ rơm rạ với mục đích
 A. tăng độ thoáng khí cho đất.
 B. tăng độ ẩm để giúp hạt giống tích thêm nước.

- C. tăng nhiệt độ giúp hạt giống nảy mầm.
 D. giảm ánh sáng để tránh thiêu đốt hạt giống.
- Câu 11. Chọn từ có thể thay thế cho từ “chạy” trong câu sau:
 Anh ấy vất vả *chạy* tiền để chữa bệnh cho con.
 A. Lo liệu B. Di chuyển C. Điều khiển D. Hoạt động
- Câu 12. Xét về nghĩa, lựa chọn nào dưới đây có chứa từ “đồng” **khác** với “đồng” trong “đồng bào”
 A. *Đồng* tâm hiệp lực
 B. Tháng chạp là tháng trồng khoai, Tháng giêng trồng đậu, tháng hai trồng cà. Tháng ba cây vỡ ruộng ra, Tháng tư làm mạ mưa sa đầy *đồng*.
 C. Con người muốn sống, con ơi Phải yêu *đồng* chí, yêu người anh em. (*Tiếng ru*, Tố Hữu)
 D. *Đồng* cam cộng khổ
- Câu 13. Nối từ ở cột A với nghĩa tương ứng ở cột B
- | A | B |
|-----------------|--|
| (1) Trung quân | (a) có tình cảm chân thành và tốt đẹp, trước sau như một trong quan hệ với mọi người |
| (2) Trung kiên | (b) trước sau một lòng, giữ trọn niềm tin, tình cảm gắn bó, những điều đã cam kết |
| (3) Trung hậu | (c) có tình thân giữ lòng trung thành đến cùng, không gì có thể lay chuyển được |
| (4) Trung thành | (d) có lòng trung với vua, một lòng giữ trọn đạo nghĩa |
- A. (1)-d; (2)-c; (3)-a; (4)-b
 B. (1)-c; (2)-d; (3)-a; (4)-b
 C. (1)-d; (2)-c; (3)-b; (4)-a
 D. (1)-a; (2)-d; (3)-c; (4)-b
- Câu 14. Tìm cặp từ trái nghĩa xuất hiện trong câu văn sau:
Cành tịch mịch một đêm khuya ở tỉnh nhỏ thật buồn bã, khiến tôi lại nhớ đến những đêm náo nhiệt, đầy ánh sáng ở Hà Nội. (Người bạn cũ, Thạch Lam)
 A. Tịch mịch – náo nhiệt
 B. Nhỏ - đầy
 C. Khuya – đêm
 D. Tịch mịch – buồn bã
- Câu 15. Xác định chủ ngữ của câu: *Những mảng hoa hình sao màu trắng sữa chao nghiêng trong gió, đậu xuống tóc các cô gái, lấm tấm khắp cả mặt đường.* (Cây sấu Hà Nội, Tạ Việt Anh).
 A. Những mảng hoa
 B. Những mảng hoa hình sao
 C. Những mảng hoa hình sao màu trắng sữa
 D. Những mảng hoa hình sao màu trắng sữa chao nghiêng trong gió
- Câu 16. Sắp xếp các sự kiện sau theo trình tự thời gian:
 1) *Triều đình Huế kí hiệp ước công nhận quyền đô hộ của Pháp trên toàn nước ta.*
 2) *Trương Định bát chấp lệnh bãi binh của triều đình, ở lại cùng nhân dân kháng chiến chống Pháp.*

3) Tôn Thất Thuyết nhân danh vua Hàm Nghi, ra Chiếu Cần Vương kêu gọi nhân dân đứng lên giúp vua cứu nước.

4) Triều đình Nguyễn kí hòa ước Nhâm Tuất, nhường cho Pháp ba tỉnh miền Đông Nam Kỳ.

A. 4 - 1 - 2 - 3. B. 2 - 4 - 1 - 3. C. 2 - 4 - 3 - 1. D. 4 - 2 - 1 - 3.

- Câu 17. Nội dung nào sau đây **không** được quy định trong các điều khoản của Hiệp định Pa-ri?
 A. Mĩ phải tôn trọng độc lập, chủ quyền, thống nhất và toàn vẹn lãnh thổ của ba nước Đông Dương
 B. Mĩ phải rút toàn bộ quân Mĩ và quân đồng minh ra khỏi Việt Nam
 C. Mĩ phải chấm dứt dính líu quân sự ở Việt Nam
 D. Mĩ phải có trách nhiệm trong việc hàn gắn vết thương chiến tranh ở Việt Nam
- Câu 18. Ở miền nào nước ta khí hậu có hai mùa gió là gió mùa mùa đông và gió mùa mùa hạ, mùa đông lạnh và ít mưa, mùa hạ nóng, ẩm?
 A. Miền Nam B. Miền Trung C. Miền Bắc D. Miền Tây
- Câu 19. Chọn đáp án đúng để hoàn thành các chỗ trống trong đoạn sau: "Nước ta có mạng lưới sông ngòi dày đặc, phân bố rộng khắp trên cả nước. Các sông lớn ở miền Bắc và miền Nam là (a)..... Sông ở miền Trung thường là các con sông nhỏ, ngắn, dốc, trong đó có các con sông lớn hơn cả là (b)..."
 A. (a) Sông Hồng, sông Đà Rằng, sông Mã - (b) sông Cà, sông Tiên, sông Hậu.
 B. (a) Sông Cà, sông Tiên, sông Hậu - (b) sông Hồng, sông Mã, sông Đà Rằng.
 C. (a) Sông Hồng, sông Cà, sông Tiên - (b) sông Hậu, sông Mã, sông Đà Rằng.
 D. (a) Sông Hồng, sông Tiên, sông Hậu - (b) sông Mã, sông Cà, sông Đà Rằng.
- Câu 20. Các câu thành ngữ, tục ngữ nào dưới đây **không** nói về chủ đề tình bạn?
 1) *Ăn cùng mâm, nằm cùng chiếu.*
 2) *Có công mài sắt, có ngày nên kim.*
 3) *Học thầy chẳng tày học bạn.*
 4) *Chọn bạn mà chơi, chọn nơi mà ở.*
 5) *Bán anh em xa, mua láng giềng gần.*
 A. 1 - 3 - 5 B. 1 - 2 - 5 C. 2 - 5 D. 1 - 2
- Câu 21. I have been trying to fix it for more than an hour, but the car _____ yet.
 A. doesn't start
 B. isn't going to start
 C. hasn't started
 D. won't start
- Câu 22. Ann was very surprised to find the door unlocked. She remembered _____ it before she left.
 A. having locked
 B. to lock
 C. that she has locked
 D. had locked
- Câu 23. His computer, _____ he just bought last week, needs repairing.
 A. whose B. which C. that D. whom
- Câu 24. You _____ return the book at once. You can keep it till you've done with your reading.
 A. mustn't B. can't C. needn't D. may not

Mark the letter A, B, C, D to indicate the correct answers to complete the conversation below:

(a). I'm having an interview at 3.m and I need my car.	(b). Sure. But what's wrong with your car?
(c). I feel stuck in a rut working as an accountant.	(d). Well, when exactly?

John: Can you do me a favor, May?

May: What can I do for you?

John: My car is being repaired at the moment. Would you mind if I borrowed yours?

May: (25) _____.

John: This afternoon. I want to buy some new stuff for my hamster.

May: I'm sorry. I guess it wouldn't be possible. (26) _____.

John: Oh, that's fine. I can do that later. By the way, are you applying for a new job?

May: Yes, I am. (27) _____. Marketing seems more interesting to me.

John: Yeah. Good luck with your interview!

May: Thanks.

- Câu 25. A. (a) B. (b) C. (c) D. (d)
 Câu 26. A. (a) B. (b) C. (c) D. (d)
 Câu 27. A. (a) B. (b) C. (c) D. (d)

A new online revolution has begun and is spreading like wildfire. In November, the tech company OpenAI (28) _____ ChatGPT – a chatbot you can have a conversation with. It answers nearly anything you ask it, in perfect grammar. It can even give you a 300-word text about a movie (29) _____ in the style of Shakespeare. Analysts have dubbed the technology a game changer. Following ChatGPT closely came Google's Bard, (30) _____ was launched on February 6th. A Google-Microsoft battle for the future of online search is now on. There are many questions about how chatbots will shake (31) _____ our world. Teachers are worrying about "the end of homework". Bots can give (32) _____ essays to a grade-A standard. Workers fear all kinds of jobs will be lost. ChatGPT is now on the Bing search engine. Microsoft said: "It's a new day in search." Google said: "AI can deepen our understanding of information and turn it into useful knowledge, making it easier for people to get things done."

Taken & adapted from "Breakingnewsenglish.com"

- Câu 28. A. has released B. had released C. released D. was releasing
 Câu 29. A. was written B. writing C. wrote D. written
 Câu 30. A. that B. who C. which D. whom
 Câu 31. A. up B. off C. out D. down
 Câu 32. A. convince B. convincing C. convinced D. convincingly

The history of coffee

Many people enjoy a cup of coffee at their local coffee shop, but few people knew the story of coffee and how it is produced.

Coffee trees are native to eastern Africa and areas of the Arabian Peninsula. They were first grown and traded in the 15th century. Back then, most coffee came from the country we now know as Yemen. Before long, coffee was in high demand all over the Middle East. By the seventeenth century coffee had been introduced to Europe. European traders started bringing coffee plants to other parts of the world. The Dutch brought coffee to the islands of Indonesia. By the 20th century, most of the world's production came from Central and South America. Today, Brazil is the largest producer of coffee in the world.

Coffee is now the second most heavily traded product in the world after oil. Research shows that as many as a third of the world's population are coffee drinkers. In the USA, the number of coffee shops has increased greatly over the years. In 1995 there were around 5000 shops and sellers specializing in coffee. By 2020, there were about 37,000 coffee shops in the USA. It is hard to walk down a street in an American city without coming across a coffee shop.

A coffee bean goes from a series of producers, exporters, importers, roasters and sellers. This long chain of production poses environmental concerns within the coffee industry. The chemicals used on large coffee farms can hurt soil and water resources. These large farms also cut down many trees to make room for coffee plants. This threatens native plants and birds. Environmental organizations have worked to create principles for producing coffee in environmentally friendly ways. Many coffee drinkers buy this coffee to support their efforts.

Taken and adapted from ESOL courses

- Câu 33. What is NOT true about coffee?
- The business of coffee began in the 15th century.
 - It originated in Yemen.
 - It was introduced to the islands of Indonesia by Dutch traders
 - Brazil is now the country that produces most coffee.
- Câu 34. What does the writer say about coffee in paragraph 3?
- how coffee spreads across the world.
 - why so many people love coffee.
 - how popular coffee is in today's world.
 - how profitable coffee is
- Câu 35. According to research, about of the global population drink coffee.
- 33%
 - 50%
 - 63%
 - 42%
- Câu 36. Which of the following is NOT a problem caused by coffee production?
- Lots of trees are chopped down.
 - It harms soil and water.
 - Birds and plants are in danger.
 - People spend too much money coffee.
- Câu 37. According to paragraph 4, what has been done to deal with the environmental problems caused by coffee production?
- Many people try to drink less coffee.
 - Many coffee drinkers say no to coffee from environmental organizations.
 - Environmental organizations ban growing coffee in some areas.
 - Some organizations introduce rules about producing coffee environmentally friendly.

Mark the letter A, B, C or D to indicate the sentence that is closest in meaning to each of the following sentences.

- Câu 38. "I'm sorry for sending you the wrong information, Kate." said Olivia.
- Olivia apologized to Kate for sending her the wrong information.
 - Olivia was sorry about Kate's sending the wrong information.
 - Olivia apologized to Kate for not sending her the information.
 - Olivia was sorry that Kate did not receive the information.

- Câu 39. Thanks to his father's help, Bill could repair the roof.
- If his father had helped Bill, he could have repaired the roof.
 - But for his father's help, Bill couldn't have repaired the roof.
 - His father didn't help him, but Bill was still able to repair the roof.
 - Bill couldn't repair the roof even though his father helped him.
- Câu 40. They report that the tsunami kills over 200,000 people.
- The tsunami is reported to be killed by over 200,000 people.
 - The tsunami is reported to have been killed by over 200,000 people.
 - Over 200,000 people are reported to have killed in the tsunami.
 - Over 200,000 people are reported to have been killed in the tsunami.

II. TỰ LUẬN (50 phút)

PHẦN 1: PHÂN ĐÁNH GIÁ NĂNG LỰC TOÁN

Quãng đường AB dài 90km. Cùng một thời điểm, hai xe đi ngược chiều nhau từ hai đầu A và B sau 2 giờ 30 phút thì chúng gặp nhau. Nếu vận tốc xe đi từ B tăng thêm 4km/giờ thì hai xe sẽ gặp nhau ở chính giữa quãng đường AB. Tính vận tốc mỗi xe lúc đầu.

PHẦN 2: PHÂN ĐÁNH GIÁ NĂNG LỰC TIẾNG VIỆT

Cho đoạn thơ sau:

*Quê hương là đêm trăng tỏ
 Hoa cau rụng trắng ngoài thềm
 Quê hương là vàng hoa bí
 Là hồng tím giậu mỏng tươi
 Là đò đôi bờ dâm bụt
 Màu hoa sen trắng tinh khôi
 Quê hương mỗi người chỉ một
 Như là chỉ một mẹ thôi
 Quê hương có ai không nhớ ...
 (Quê hương, Đỗ Trung Quân)*

Quê hương luôn ở trong trái tim mỗi người con với biết bao cảnh vật, sắc màu tươi đẹp. Em hãy viết một bức thư (khoảng 100 từ) gửi tới một người bạn nước ngoài để miêu tả một khung cảnh tươi đẹp của quê hương mà em yêu mến.

PHẦN 3: PHÂN ĐÁNH GIÁ NĂNG LỰC TIẾNG ANH

Bài 1. Look at the picture below and write a paragraph to describe it in about 80 words.



Source: digitallibrary.io

Bài 2. In about 100 words, write a paragraph about ways students can help protect the environment.

ĐỀ SỐ 2

I. TRẮC NGHIỆM (50 phút)

- Câu 1. Trong hộp có 6 viên bi trắng, 7 viên bi đỏ và 8 viên bi xanh có kích thước giống hệt nhau. Không nhìn vào hộp, số viên bi ít nhất cần bốc ra để chắc chắn trong các viên bi lấy ra có đủ 3 màu là
A. 20 B. 18 C. 16 D. 14.
- Câu 2. Huệ có 36 hình lập phương nhỏ có cạnh 2 cm. Huệ dùng một số hình lập phương trong số đó xếp thành một hình lập phương có thể tích lớn nhất. Diện tích toàn phần của hình lập phương lớn nhất có thể là
A. 192 cm^2 B. 216 cm^2 C. 684 cm^2 D. 864 cm^2
- Câu 3. Hai vòi nước cùng chảy vào một cái bể cạn thì sau 6 giờ sẽ đầy bể. Người ta mở vòi thứ nhất chảy trong 4 giờ thì được một nửa bể. Sau đó, người ta khóa vòi thứ nhất và mở vòi thứ hai. Thời gian vòi thứ hai tiếp tục chảy đến khi đầy bể là
A. 8 giờ B. 12 giờ C. 16 giờ D. 24 giờ
- Câu 4. Có hai tấm kính hình chữ nhật. Chiều rộng của mỗi tấm kính bằng $\frac{1}{2}$ chiều dài của tấm kính đó, và chiều dài của tấm kính nhỏ đúng bằng chiều rộng của tấm kính lớn. Ghép hai tấm kính sát vào nhau và đặt lên bàn có diện tích 90 dm^2 thì vừa khít. Vậy số đo chiều dài của tấm kính lớn là
A. 3 dm B. 6 dm C. 10 dm D. 12 dm
- Câu 5. Một người đi xe đạp từ A đến B với vận tốc 12km/giờ. Khi từ B trở về A, lúc đầu, người ấy cũng đi với vận tốc 12km/giờ. Sau khi đi được 5km, người ấy tăng vận tốc lên 15km/giờ. Vì vậy, thời gian về ít hơn thời gian đi là 24 phút. Chiều dài quãng đường AB là
A. 29km B. 25km C. 24km D. 20km
- Câu 6. Bệnh viêm não lây truyền qua con đường nào?
A. Lây qua đường hô hấp khi tiếp xúc gần với người bị bệnh
B. Lây khi muỗi đốt và truyền vi-rút gây bệnh sang người
C. Lây qua đường máu khi dùng chung bơm kim tiêm với người bệnh
D. Lây từ người mẹ có bệnh sang con trong khi mang thai hoặc cho con bú
- Câu 7. Cho chuỗi thức ăn sau đây: Lúa → Chuột đồng → Rắn hổ mang → Diều hâu. Khẳng định đúng là
A. chuột đồng là sinh vật sản xuất.
B. lượng rắn hổ mang tăng thì số lượng diều hâu giảm.
C. tiêu diệt bớt diều hâu sẽ làm giảm số lượng chuột đồng.
D. rắn hổ mang là sinh vật tiêu thụ bậc 1.
- Câu 8. Cơ quan sinh dục cái và cơ quan sinh dục đực của thực vật có hoa là
A. nhụy hoa và nhị hoa. B. nhị hoa và cánh hoa.
C. nhị hoa và đài hoa. D. nhụy hoa và bao phấn.
- Câu 9. Người ta thường sử dụng đồng làm vật liệu chính khi sản xuất lõi dây dẫn điện vì nguyên nhân nào dưới đây?
A. Đồng dẫn nhiệt tốt, màu sắc đẹp, phổ biến, giá thành rẻ.
B. Đồng dẫn điện tốt, bền, dẻo, dễ uốn và dễ kéo thành sợi.
C. Đồng dẫn nhiệt tốt, nặng, dễ uốn, dễ kéo thành sợi.
D. Đồng dẫn điện và dẫn nhiệt tốt, nặng, bền, giá thành hợp lí.
- Câu 10. Vì sao khi đun bếp củi, người ta thường cời rỗng tro trong bếp ra?
A. Để không khí bên ngoài lửa vào, cung cấp Oxi duy trì sự cháy.
B. Để không khí lưu thông giúp hạn chế khí Cacbonic do tro bếp tạo ra.

- C. Để luồng không khí có thể lưu thông, cung cấp Oxi duy trì sự cháy.
D. Để không khí lửa vào cung cấp khí Oxi và Nitơ duy trì sự cháy.
- Câu 11. Câu văn nào dưới đây **không** chứa trạng ngữ chỉ thời gian?
A. *Mấy tháng sau, Hòa thông báo cho mọi người đã thu được khá nhiều bài viết. (Quán khu Nam Đồng, Bình Ca)*
B. *Chập tối, tôi tạm nghỉ tay và ra đứng ngoài cửa, họp cùng anh chị em hàng xóm quanh bờ ruộng, vừa gáy, vừa gảy đàn, vừa hát một bài hát hoàng hôn chào tạm biệt ông mặt trời. (Đế Mèn phiêu lưu kí, Tô Hoài)*
C. *Hồi đó, trong suốt thời gian sống trong chiếc kén tối đen, tôi ngủ li bì bất kể ngày đêm và không hề mộng mị. (Đừng giẫm lên cỏ, Nguyễn Thị Bích Nga)*
D. *Từ tận xa, ông mặt trời đã lộ lên gửi những tia nắng phớt hồng đến chào mừng thắng lợi đầu tiên của những người thủy thủ. (Mặt biển ban mai, Nguyễn Trinh)*
- Câu 12. Từ nào **không** phải từ ghép phân loại?
A. Nóng bức B. Xanh lam C. Ngọt lịm D. Thơm phức
- Câu 13. Cho câu “Anh gà trống ri bé nhỏ và cô độc đứng nhìn đàn ngan bằng đôi mắt hó háy thêm muốn”. Dòng nào có dấu (/) phân tách đúng chủ ngữ, vị ngữ của câu?
A. Anh gà trống ri /bé nhỏ và cô độc đứng nhìn đàn ngan bằng đôi mắt hó háy thêm muốn.
B. Anh gà trống ri bé nhỏ và cô độc/ đứng nhìn đàn ngan bằng đôi mắt hó háy thêm muốn.
C. Anh gà trống ri bé nhỏ và cô độc đứng nhìn đàn ngan/bằng đôi mắt hó háy thêm muốn.
D. Anh gà trống ri bé nhỏ /và cô độc đứng nhìn đàn ngan bằng đôi mắt hó háy thêm muốn.
- Câu 14. Đọc đoạn văn và trả lời câu hỏi
Hai cậu cháu nói chuyện đến khi gà gáy mới đi ngủ. Hùng đã ngủ say từ lúc nào. Lâm nhẹ nhàng nằm xuống bên em. Văng trong đêm có tiếng ai ru con vọng lại. Giấc ngủ sau một ngày mệt mỏi đến thật dễ dàng. Trong giấc mơ, Lâm thấy mình cùng cậu Minh đang đi giữa Pù Hốc. Một Pù Hốc rợp bóng cây xanh. (Bếp lửa, Lục Mạnh Cường).
Đoạn văn trên có bao nhiêu từ láy là tính từ?
A. 1 B. 2 C. 3 D. 4
- Câu 15. Các vế trong câu ghép sau được liên kết với nhau bằng cách nào?
Nhiều ngày trôi qua, con ngựa răng đã không còn thổi thóc, nỗi nhớ mẹ cũng đã dần nguôi ngoai. (Ngày Tết của mèò Bánh mướt, Nhật Phi).
A. Nối bằng dấu phẩy
B. Nối bằng quan hệ từ
C. Nối bằng cặp từ hô ứng
D. Cả ba phương án trên đều chưa đúng
- Câu 16. Trong những năm 1789 – 1792, vua Quang Trung đã ban hành nhiều chính sách về kinh tế - xã hội song **không** gồm chính sách nào sau đây?
A. Dịch sách chữ Hán ra chữ quốc ngữ và coi chữ quốc ngữ là chữ viết chính thức của quốc gia.
B. Ban Chiếu lập học và đưa ra quan điểm “Xây dựng đất nước lấy việc học làm đầu”.
C. Mở cửa biên giới với nhà Thanh và mở cửa biển để thuyền buôn nước ngoài vào buôn bán.
D. Ban Chiếu khuyến nông, kêu gọi nhân dân phiêu tán về quê làm ruộng.

- Câu 17. Sắp xếp các sự kiện sau theo trình tự thời gian:
 (1) Cuộc tiến công Tết Mậu Thân vào đại sứ quán Mỹ, Đài phát thanh, sân bay Tân Sơn Nhất.
 (2) Dương Văn Minh ra lệnh đầu hàng không điều kiện lực lượng cách mạng Việt Nam.
 (3) Hiệp định Pa-ri về Việt Nam được kí kết.
 (4) Phong trào Đồng khởi đưa cách mạng miền Nam từ thế gìn giữ lực lượng sang thế tiến công.
 A. 4-1-2-3 B. 4-1-3-2 C. 1-4-3-2 D. 1-3-4-2
- Câu 18. Đặc điểm nào sau đây **không** đúng về hình dạng lãnh thổ nước ta?
 A. Phần đất liền mở rộng theo chiều Đông- Tây.
 B. Đường bờ biển cong hình chữ S.
 C. Nơi hẹp nhất trên nước ta chưa tới 50km.
 D. Phần đất liền kéo dài theo chiều Bắc - Nam.
- Câu 19. Chọn đáp án đúng để hoàn thành các chỗ trống trong câu sau: "Địa hình nước ta chủ yếu là đồi núi, với (a).....là đồi núi, chỉ có (b).....là đồng bằng"
 A. (a) 1/4 - (b) 3/4. B. (a) 3/4 - (b) 1/4. C. (a) 2/5 - (b) 3/5. D. (a) 3/5 - (b) 2/5.
- Câu 20. Bạn Q đạt giải Học sinh giỏi Thành phố nên gia đình bạn quyết định sẽ tổ chức liên hoan thật to để mọi người trong cả khu dân cư biết và đến mừng. Vì không đủ tiền làm cỗ nên bố mẹ bạn Q quyết định đi vay tiền về để tổ chức một bữa tiệc linh đình. Em có nhận xét gì về việc làm của gia đình Q?
 A. Gia đình Q làm như vậy là lãng phí, không phù hợp với hoàn cảnh gia đình.
 B. Gia đình Q làm như vậy là hợp lí, vì bạn Q xứng đáng được như vậy.
 C. Gia đình Q làm như vậy là hợp lí, phù hợp với hoàn cảnh gia đình.
 D. Gia đình Q làm như vậy là vi phạm pháp luật, đáng bị lên án.
- Câu 21. Jack went out, but he _____ anyone where he was going.
 A. didn't tell B. not told C. wasn't telling D. doesn't tell
- Câu 22. He's been walking all morning. I'm sure he _____ very tired now.
 A. could be B. must be C. might be D. can't be
- Câu 23. I enjoyed talking with the people _____ I had dinner last night.
 A. whom with B. with whom C. with who D. who with
- Câu 24. It was wrong of me. I regret _____ those hurtful words to you.
 A. to say B. for saying C. with saying D. saying

Mark the letter A, B, C or D to indicate the correct answers to complete the conversation below:

(a). Would you like me to do anything for you?	(b). They are very healthy and contains no fat.
(c). But honestly, I don't like its flavor.	(d). What would you like to use the coffee with?

Waiter: Good morning. Would you like to order now?

Lauren: Hi. I'd like to order an extra-large iced coffee.

Waiter: Sure! We have several milk options. (25) _____.

Lauren: Well, I'm trying to lose weight, so it's better to have fat-free milk. (26) _____.

Waiter: I see. We also have plant-based milk such as soy milk or almond milk. (27) _____.

Would you like to try?

Lauren: Almond milk sounds good. I'll have it with my coffee.

Waiter: Yes, I've noted it down. What else would you like to order?

Lauren: No, thanks.

- Câu 25. A. (a) B. (b) C. (c) D. (d)
 Câu 26. A. (a) B. (b) C. (c) D. (d)
 Câu 27. A. (a) B. (b) C. (c) D. (d)

A woman has been called a hero after fighting off a mountain lion that was attacking her five-year-old son. Her (28) _____ instincts appeared as she dragged her little boy away from the big cat. She beat the wild animal with her fists in her garden, (29) _____ her son had been playing. The boy suffered bites and cuts to his head and body, but is now in a stable condition in a local hospital. He is expected to make a full (30) _____. The California Department of Fish and Wildlife said the mother was a "true hero" for saving her son's life.

Officials reported that the mountain lion was less than a year old. The attack happened probably because the creature (31) _____ its hunting skills. They shot a lion near the boy's home that was acting in an aggressive nature. The officials later (32) _____: "Scientists analyzed samples from underneath the claws of the suspect lion body and isolated traces of human tissue and blood with a DNA profile that matched the young victim."

Taken and adapted from breakingnewsenglish.com

- Câu 28. A. mother B. mothering C. maternal D. maternally
 Câu 29. A. in that B. where C. of which D. that
 Câu 30. A. recovery B. retreat C. recess D. repair
 Câu 31. A. practiced B. had practiced C. was practicing D. was being practiced
 Câu 32. A. inquired B. stated C. required D. denied

Tracker Star – Watching Centre

Are you interested in finding out more about the stars and planets in the night skies? Then come and join us at the Tracker Star-Watching Centre halfway up Mintal Mountain. We hold popular star-watching sessions almost every night of the year from 6:00 until 10:00. The centre is run entirely on money given to us by the public, so although there's no actual charge for your tickets, we're always grateful when people choose to give us large or small amounts of money – it all helps. And if after one of our evening sessions you become interested in finding out more, and you're willing to pay a small fee, then we run a range of daytime course.

During our evening programs, you'll first see a documentary that tells you all about the history of the Centre and all the star watching programs that we run here, and then you'll move outside where several special telescopes are set up for you to see the stars in more detail. Our expert staff will manage all the equipment and during the evening they will guide you so that you get to see the most interesting objects, including double stars and planets. You may also get a chance to see the planet Saturn, with its glowing rings though its brightness changes throughout the year. We're so far up that the clouds are often below us, so our view of the night skies is clear and bright. We'll also tell you about some of the most important things that can be seen in the night sky without equipment. There are always students from the university here who help out at the Tracker Centre in their spare time, and are prepared to give you any information you want about the stars.

Visitors to the Centre should note that we often experience near-freezing night-time temperatures at the Centre, so please dress in warm clothes. However, if you have a problem and find you are not warm enough, sweaters, and scarves, which might make a nice souvenir, are available from the Centre store.

Taken and adapted from PET 8

- Câu 33. According to the passage, which is true about Tracker Star-Watching Centre?
 A. It is right at the top of a mountain.
 B. There is a variety of ticket prices that you can choose from.
 C. Visitors can come to the Centre in almost every night of the year.
 D. Visitors don't have to pay for courses at the Centre during the day.

- Câu 34. What are visitors allowed to do after learning about the history of the Centre and its star-watching programs?
- watch the stars and planets with the equipment
 - learn how to use the equipment
 - wear warm gloves and sweaters
 - set up the telescopes
- Câu 35. What does the writer do in paragraph 2?
- introduces the Centre
 - explains different activities at the Centre
 - shows the history of the Centre
 - shows all star-watching programs at the Centre
- Câu 36. According to the passage, which is NOT true about Tracker Star-Watching Centre?
- Centre employees help visitors notice the best sights in the skies.
 - Visitors will get different views of the planet Saturn, depending on when they visit.
 - Some students from a nearby university can answer the questions you have.
 - A telescope is needed to see all the objects that the staff show you.
- Câu 37. What are visitors recommended to do before going to the Centre?
- fuel their vehicles
 - wear warm clothes
 - buy souvenir
 - make a reservation

Mark the letter A, B, C or D to indicate the sentence that is closest in meaning to each of the following sentences.

- Câu 38. Lauren was very mad at you because you lied to her.
- If you had told her the truth, Lauren would have been very mad at you.
 - Lauren wouldn't have been very mad at you if you hadn't lied to her.
 - If Lauren knew you had lied to her, she would be very mad at you.
 - Lauren would be mad at you if you told her the truth.
- Câu 39. It's the first time I've used the Internet.
- I have never used the Internet before.
 - I first used the Internet a long time ago.
 - It's the first time I've found the Internet useful.
 - I haven't used the Internet for a long time.
- Câu 40. "Where have you been hiding, Sam?" said Kate
- Kate wanted to know if Sam had been hiding from her.
 - Kate asked Sam to hide somewhere.
 - Kate asked Sam where he had been hiding.
 - Kate asked Sam if he knew somewhere to hide.

II. TỰ LUẬN (50 phút)

PHẦN 1: PHÂN ĐÁNH GIÁ NĂNG LỰC TOÁN

Cửa hàng có ba can dầu. Sau khi chuyển 3 lít từ can thứ nhất sang can thứ hai, chuyển 5 lít từ can thứ hai sang can thứ ba thì số dầu can thứ nhất bằng $\frac{3}{10}$ tổng số dầu và can thứ hai có số dầu bằng $\frac{2}{5}$ số dầu can thứ ba. Biết sau khi chuyển thì can thứ ba nhiều hơn can thứ nhất là 12 lít, hỏi lúc đầu mỗi can có bao nhiêu lít dầu?

PHẦN 2: PHÂN ĐÁNH GIÁ NĂNG LỰC TIẾNG VIỆT

Cho đoạn văn sau:


Cánh rừng mùa đông trơ trụi. Những thân cây khẳng khiu vươn nhánh cành khô xác trên nền trời xám xịt. Trong hốc cây, mấy gia đình chim họa mi, chim gõ kiến ẩn náu. Con nào con nấy gầy xơ xác, lộ đầu ra nhìn trời bằng những cặp mắt ngơ ngác buồn. Bác gấu đen nằm co quắp trong hang. Hồi cuối thu, bác ta béo núng nính, lông mượt, da căng tròn như một trái sim chín. Vậy mà bây giờ teo tóp, lông lóm chớm, trông thật tội nghiệp.

(Cánh rừng mùa đông, Trần Hoài Dương)

Bằng những trải nghiệm thực tế và trí tưởng tượng của mình, em hãy kể tiếp câu chuyện trên (bài làm khoảng 100 từ).

PHẦN 3: PHÂN ĐÁNH GIÁ NĂNG LỰC TIẾNG ANH

Bài 1. Look at the picture below and write a paragraph to describe it in about 80 words.



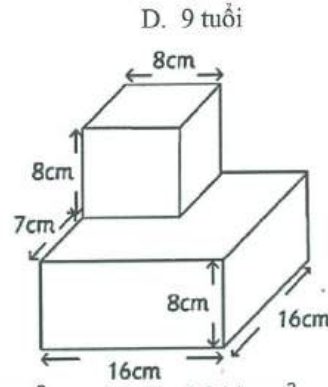
Source Brainly.in

Bài 2. In 100 words, write a paragraph about why children should spend more time outdoors.

ĐỀ SỐ 3

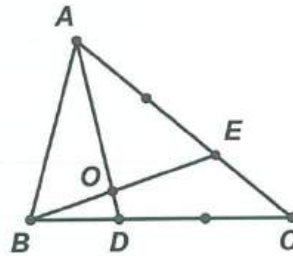
I. TRẮC NGHIỆM (50 phút)

- Câu 1. Cho một số tự nhiên lẻ có ba chữ số, tổng các chữ số của số đó bằng 25 và khi viết các chữ số của số đó theo thứ tự ngược lại thì số đó không đổi. Tích các chữ số của số đó là
A. 441 B. 567 C. 576 D. 648
- Câu 2. Năm nay tuổi ông gấp 10 lần tuổi bé Nam và tuổi bố gấp 6 lần tuổi bé Nam. Biết 10 năm trước, ông hơn bố 32 tuổi, tuổi Nam hiện tại là
A. 6 tuổi B. 7 tuổi C. 8 tuổi D. 9 tuổi
- Câu 3. Một hình lập phương được đặt lên trên một khối hộp chữ nhật với các kích thước như trong hình. Diện tích toàn phần của toà tháp bên là



- A. $1\ 126\text{ cm}^2$ B. $1\ 200\text{ cm}^2$ C. $1\ 280\text{ cm}^2$ D. $1\ 344\text{ cm}^2$
- Câu 4. Một cửa hàng nhập về 400 chai nước rửa tay và cùn sát khuẩn. Sau khi cửa hàng đó bán đi 20 chai nước rửa tay và 50 chai cùn, tỉ số của số chai nước rửa tay so với số chai cùn là $\frac{4}{7}$. Lúc đầu, cửa hàng đó nhập về số chai nước rửa tay là

- A. 120 chai B. 130 chai C. 140 chai D. 260 chai
- Câu 5. Cho tam giác ABC. Điểm D nằm trên cạnh BC sao cho $BD = \frac{1}{3} \times BC$; E nằm trên cạnh AC sao cho $AE = \frac{2}{3} \times AC$. Tỉ số diện tích tam giác AOE và diện tích tam giác BOD là



- A. $\frac{8}{1}$ B. $\frac{17}{2}$ C. $\frac{7}{1}$ D. $\frac{6}{1}$
- Câu 6. Để bảo vệ môi trường, chúng ta nên hạn chế sử dụng nguồn năng lượng nào dưới đây?
A. Năng lượng mặt trời B. Năng lượng chất đốt
C. Năng lượng gió D. Năng lượng nước chảy
- Câu 7. Chất khí chiếm tỉ lệ cao nhất trong các thành phần của không khí là
A. Nitơ B. Oxi C. Hidro D. Cacbonic
- Câu 8. Trong các trường hợp sau đây, trường hợp nào là sự biến đổi vật lí?
A. Một viên nước đá bị tan chảy khi để ngoài trời nắng.
B. Đun nóng đường để làm kẹo đắng.
C. Thanh sắt để ngoài môi trường ẩm ướt bị gỉ.
D. Cho vôi sống vào nước thành vôi tôi.
- Câu 9. Hiện tượng xuất hiện mụn trứng cá ở tuổi dậy thì chủ yếu là do sự tăng cường hoạt động của
A. hệ hô hấp. B. hệ bài tiết. C. hệ tuần hoàn. D. hệ sinh dục.

- Câu 10. Các nhà khoa học khuyên **không** nên để nhiều cây cối ở trong phòng ngủ kín vì
A. vào ban đêm, cây hô hấp mạnh nên cơ thể sẽ thấy mệt mỏi vì thiếu oxi.
B. vào ban đêm, cây tiết ra các chất độc ảnh hưởng hệ thần kinh.
C. vào ban đêm, cây thải ra khí hidro dễ khiến cơ thể trở nên mệt mỏi và khó thở.
D. vào ban đêm, cây thực hiện quá trình thu nhiệt nên nhiệt độ phòng xuống thấp.
- Câu 11. Câu văn nào dưới đây chứa dấu phẩy có tác dụng ngăn cách giữa chủ ngữ, vị ngữ với thành phần trạng ngữ của câu?
A. Lá xanh um, mát rượi, ngon lành như lá me non. (Hoa học trò, Xuân Diệu)
B. Và cây trà nghĩa cho mưa bằng cả mùa hoa thơm, trái ngọt. (Mưa xuân, Nguyễn Thị Như Trang)
C. Mèo con tiu nghỉu cúp tai lại, tụt xuống đất. (Cái tết của mèo con, Nguyễn Đình Thi)
D. Dưới bóng tre xanh, ta gìn giữ một nền văn hóa lâu đời. (Cây tre Việt Nam, Thép Mới)
- Câu 12. Từ nào **không phải** từ láy?
A. Bằng phẳng B. Mập mạp C. Xao xuyến D. Lắc lư
- Câu 13. Câu văn nào là câu ghép?
A. Và những hạt mưa rơi vào lòng ta, sau giây phút phơi phới bỗng bột ban đầu, lòng ta bỗng se lại không biết là do đâu. (Mưa mùa xuân, Hồng Thúy)
B. Những mái tranh, những khóm lá cho đến những nếp núi biếc lượn ngoài xa tít, đều hiện ra với những hình sắc rõ rệt. (Nắng mới, Bùi Hiền)
C. Xuyên qua bọn họ, những người gánh nước làm nhóp nhép thêm cái lối vào xóm chật hẹp, mấp mô, tách ra hàng mười ngõ. (Mợ Du, Nguyễn Hồng)
D. Tôi đã lần lượt dùng hết chừng ấy thứ, đã ngâm nghĩ và suy xét nhiều về cái vị ngọt trước một chén chè Tàu bốc khói. (Hà Nội băm sáu phố phường, Thạch Lam)
- Câu 14. Nhận xét mối quan hệ về nghĩa giữa hai từ "**chân**" được in đậm trong mỗi cặp thơ sau:
- Ông bị đau **chân**
Nó sưng nó tấy (Thương ông, Tú Mỡ)
- Chiếc **com- pa** bỏ vẽ
Có **chân** đứng, **chân** quay
(Những cái chân, Vũ Quần Phương)
A. Từ đồng nghĩa B. Từ đồng âm C. Từ nhiều nghĩa D. Từ trái nghĩa
- Câu 15. Dòng nào nêu đúng và đầy đủ nhất nội dung đoạn thơ sau?
Dừa vẫn đứng hiên ngang cao vút
Lá vẫn xanh rất mực dịu dàng
(Dừa ơi, Lê Anh Xuân)
A. Cây dừa cao thẳng, đứng hiên ngang giữa đất trời, màu lá xanh mượt, mềm mại.
B. Cây dừa gợi liên tưởng đến hình ảnh người dân Việt kiên cường nhưng dịu dàng, thủy chung.
C. Tình yêu màu xanh thể hiện qua việc yêu màu xanh của lá dừa.
D. Cả A và B đều đúng.

Câu 16. Nối tên tác giả ở cột A tương ứng với tên tác phẩm ở cột B:

Tác giả	Tác phẩm
(1) Trần Quốc Tuấn	(a) <i>Hồng Đức quốc âm thi tập</i>
(2) Lê Thánh Tông	(b) <i>Bình Ngô đại cáo</i>
(3) Nguyễn Trãi	(c) <i>Đại Việt sử kí toàn thư</i>
(4) Ngô Sĩ Liên	(d) <i>Hịch tướng sĩ</i>

- A. (1)-b, (2)-a, (3)-d, (4)-c
 B. (1)-c, (2)-b, (3)-a, (4)-d
 C. (1)-d, (2)-a, (3)-b, (4)-c
 D. (1)-d, (2)-c, (3)-b, (4)-a

Câu 17. Chính sách nào sau đây không phải là biện pháp giải quyết nạn đói ở nước ta sau năm 1945?

- A. Quyên góp cho quỹ Độc lập.
 B. Tổ chức "Ngày đồng tâm".
 C. Lập hũ gạo cứu đói.
 D. Kêu gọi nhân dân "Nhường cơm sẻ áo".

Câu 18. Vì sao các cây trồng của nước ta chủ yếu là cây xứ nóng?

- A. Do nước ta khí hậu nóng ẩm.
 B. Do nước ta nguồn nước tưới dồi dào.
 C. Do nước ta có nhiều đồi, núi.
 D. Do nước ta có nhiều gió mùa.

Câu 19. Châu lục nào có đồng bằng chiếm 2/3 diện tích, đồi núi chiếm 1/3 diện tích, núi cao tập trung ở phía Nam?

- A. Châu Á B. Châu Âu C. Châu Mỹ D. Châu Phi

Câu 20. Em tán thành ý kiến nào trong việc tiết kiệm và bảo vệ nguồn nước?

- A. Sông, suối, ao, hồ không phải của riêng ai nên ta có thể bỏ rác xuống được.
 B. Nước là tài nguyên vô hạn, nên có thể thoải mái sử dụng, không cần phải tiết kiệm.
 C. Chúng ta có thể tùy ý sử dụng bao nhiêu nước cũng được, miễn là trả tiền đầy đủ.
 D. Tài nguyên nước cần được giữ gìn và bảo vệ cho cuộc sống hôm nay và mai sau.

Câu 21. Every time she's late, she says it's because her alarm clock didn't _____.

- A. go off B. come off C. clock out D. get up

Câu 22. Why do you blame me for everything _____ goes wrong?

- A. it B. that C. what D. who

Câu 23. He was late, but he got here _____ he could.

- A. so fast as B. as fast as C. as fast like D. as fast that

Câu 24. It _____ me more than an hour to get to work. That's why I changed my job.

- A. was used to take
 B. was used to taking
 C. would use to take
 D. used to take

Mark the letter A, B, C, or D to indicate the correct answers to complete the following dialogue.

(a). I'm afraid it is a terrible idea	(b). That's a great idea
(c). I'm not so sure it is a bad idea	(d). I think we're going to organize a protest

Joe: Have you heard? The government wants to shorten our summer holidays to three weeks!

Mum: And... what do you think?

Joe: Well, if you ask me, I think it's crazy. We work so hard throughout the year, so we deserve a long break. (25) _____.

Mum: I think the government is saying that a lot of students do nothing and waste time which they could spend on learning new things, so (26) _____. And I don't think organizing a protest is the right thing to do.

Joe: But the teachers aren't happy, either, so we have to do something. Perhaps we should organize a committee and discuss this a bit more? What do you reckon?

Mum: That's what I was thinking. It would be a good idea to involve the teachers and parents.

Joe: Maybe then we could ask people to sign a petition?

Mum: (27) _____.

Câu 25. A. (a) B. (b) C. (c) D. (d)

Câu 26. A. (a) B. (b) C. (c) D. (d)

Câu 27. A. (a) B. (b) C. (c) D. (d)

Read the following passage and mark the letter A, B, C or D to indicate the correct word or phrase that best fits each of the numbered blanks.

The Price of Fame

Charlotte Church looks like a normal teenager, but she is far from average. She has an amazing voice. Her fans stand in (28) _____ for hours to get tickets for her concerts and she is often on television. Charlotte's singing career began when she performed on a TV show at the age of 11. The head of a record company was so impressed by her voice that he (29) _____ her up on the spot. Her first album rose to number one in the charts. Charlotte still attends school in her hometown whenever she can. (30) _____, she is often away on tour for weeks at a time. She doesn't miss out on lessons, though, because she takes her own tutor with her! Her exam results in all the subjects she studies are impressive. But how does she (31) _____ with this unusual way of life? She can no longer go into town with friends because everybody stops her in the street to ask for her autograph. It seems that, like most stars, she must learn to (32) _____ these restrictions and the lack of privacy. It's the price of fame!

Taken and adapted from ULIS' compiled internal supplementary exercises

Câu 28. A. rows B. queues C. ranks D. files

Câu 29. A. signed B. wrote C. made D. picked

Câu 30. A. Although B. While C. For D. However

Câu 31. A. cope B. adjust C. bear D. tolerate

Câu 32. A. look down on B. make do with C. put up with D. run out of

Read the following passage and mark the letter A, B, C, or D to indicate the correct answer to each of the questions.

Telecommuting is some form of computer communication between employees' homes and offices. For employees whose job involve sitting at a terminal or word processor entering data or typing reports, the location of the computer is **of no consequence**. If the machine can communicate over telephone lines, when the work is completed, employees can dial the office computer and transmit the material to their employers. A recent survey in USA Today estimates that there are about 8,7 million telecommuters. But although the numbers are rising annually, the trend does not appear to be as significant as predicted when Business Week published —The Portable Executivel as its cover story a few years ago. Why hasn't telecommuting become more popular?

Clearly, change simply takes time. But in addition, there has been active resistance on the part of many managers. These executives claim that supervising the telecommuters in a large work force scattered across the country would be too difficult, or, at least, systems for managing them are not yet developed, thereby complicating the manager's responsibilities. It is also true that employees who are given the option of telecommuting are reluctant to accept the opportunity. Most people feel that they need regular interaction with a group, and many are concerned that they will not have the same consideration for advancement if they are not more visible in the office setting. Some people feel that even when a space in their homes is set aside as a work area, they never really get away from the office.

Taken and adapted from PEI

- Câu 33. With which of the following topics is the passage primarily concerned?
- The advantages of telecommuting.
 - A definition of telecommuting.
 - An overview of telecommuting.
 - The failure of telecommuting.
- Câu 34. The phrase "of no consequence" means ____.
- of no use
 - of no good
 - unimportant
 - unreasonable
- Câu 35. All of the following are mentioned as concerns of telecommuting, EXCEPT ____.
- the opportunities for advancement
 - the different system of supervision
 - the lack of interaction with a group
 - the workplace is in the employee's home
- Câu 36. The reason why telecommuting has not become popular is that the employees ____.
- need regular interaction with their families
 - are worried about the promotion if they are not seen at the office
 - feel that a work area in their home is away from the office
 - are ignorant of telecommuting
- Câu 37. When Business Week published "The Portable Executive", it implied that ____.
- systems for managing telecommuters were not effective
 - there was resistance on the part of many managers about telecommuting
 - the trend for telecommuting was optimistic
 - most telecommuters were satisfied with their work

Mark the letter A, B, C or D to indicate the sentence that is closest in meaning to each of the following sentences.

- Câu 38. John was not here yesterday. Perhaps he was ill.
- John might have been ill yesterday, so he was not here.
 - Because of his illness, John shouldn't have been here yesterday.
 - John needn't be here yesterday because he was ill.
 - John must have been ill yesterday, so he was not here.
- Câu 39. My uncle didn't recognize me until I spoke.
- My uncle recognized me not until I spoke.
 - Only when my uncle recognized me did I speak.
 - Not until I spoke did my uncle recognize me.
 - When I spoke, my uncle didn't recognize me.

- Câu 40. It is widely believed that hard work makes success.
- People think that success is when you work hard.
 - Believers of success think that we should work hard.
 - Many people think that success at work is hard.
 - Many people believe that if you want to succeed, you should work hard.

II. TỰ LUẬN (50 phút)

PHẦN 1: PHÂN ĐÁNH GIÁ NĂNG LỰC TOÁN

Có một xe ô tô dự định đi quãng đường từ A đến B dài 120km. Ô tô dự kiến xuất phát lúc 7 giờ 30 phút với vận tốc 50km/giờ.

- Nếu đi theo kế hoạch thì ô tô đến B lúc mấy giờ?
- Thực tế khi đi đến C (một điểm trên quãng đường AB), xe gặp trục trặc nên phải dừng lại sửa chữa mất 6 phút. Sau khi sửa xong thì ô tô đi quãng đường còn lại với vận tốc 60km/giờ nên đến B sớm hơn dự kiến 6 phút. Tính quãng đường AC.

PHẦN 2: PHÂN ĐÁNH GIÁ NĂNG LỰC TIẾNG VIỆT

Cho đoạn văn sau:

Tháng Giêng! Tôi nhớ những hạt cây vừa nảy mầm trên mặt đất. Chúng luôn xanh tươi non bầy, run rẩy yếu đuối nhưng cũng kiêu hãnh vô tận... Tôi ngồi thụp dưới gốc cây hồng xiêm rất to và ngắm mấy cái hạt mầm. Gió xuân phàng phất bên tai tôi, trên má tôi, lòi những sợi tóc ra khỏi chiếc cặp ba lá màu trắng. Tôi mặc một chiếc quần màu xanh tím than và chiếc áo cổ lá sen, tay bông, hoa nhí màu hồng rất nhạt.

(Kí ức tháng Giêng, Đỗ Bích Thúy)

Bạn nhỏ trong câu chuyện trên đã ngắm nhìn mấy hạt mầm với sự say mê, thích thú. Bằng những trải nghiệm của bản thân, em hãy viết đoạn văn (khoảng 100 từ) miêu tả lại một người bạn thân đang làm công việc yêu thích.

PHẦN 3: PHÂN ĐÁNH GIÁ NĂNG LỰC TIẾNG ANH

- Bài 1. Look at the following picture and write a paragraph to describe it in about 80 words.



- Bài 2. In about 100 words, write a paragraph about one time you helped protect the environment. How did you feel about it?

ĐỀ SỐ 4

I. TRẮC NGHIỆM (50 phút)

- Câu 1. Cho phân số $\frac{14}{26}$. Nếu thêm vào tử và mẫu số của phân số đã cho cùng một số tự nhiên a thì ta được một phân số mới có giá trị bằng $\frac{10}{15}$. Giá trị của biểu thức $A = \frac{a}{2} + \frac{a}{5}$ là
 A. 1,4 B. 7 C. 7,5 D. 10.
- Câu 2. Nếu độ dài mỗi cạnh của một hình lập phương tăng thêm 10% thì thể tích hình lập phương tăng thêm
 A. 10% B. 23,1% C. 30% D. 33,1%.
- Câu 3. Hình thang ABCD có đáy bé AB bằng $\frac{2}{3}$ đáy lớn CD. Hai đường chéo AC và BD cắt nhau tại O. Biết diện tích hình thang ABCD là 40cm^2 , diện tích tam giác AOD là
 A. $4,8\text{ cm}^2$ B. $6,4\text{ cm}^2$ C. $9,6\text{ cm}^2$ D. $12,8\text{ cm}^2$.
- Câu 4. Ba bạn Toán, Học, Vui cùng làm một công việc. Nếu chỉ có Toán và Học cùng làm thì phải mất 15 giờ mới xong công việc. Nếu chỉ có Học và Vui cùng làm thì phải mất 12 giờ mới xong công việc. Nếu chỉ có Toán và Vui cùng làm thì phải mất 20 giờ mới xong công việc. Cả ba bạn cùng làm sẽ hoàn thành công việc sau
 A. 10 giờ B. 15 giờ C. 15 giờ 40 phút D. 23 giờ 30 phút.
- Câu 5. Một ô tô phải đi từ A đến B trong một thời gian quy định. Người lái xe nhận thấy rằng nếu đi với vận tốc 50km/giờ thì sẽ tới B chậm 18 phút còn nếu xe đi với vận tốc 60km/giờ thì sẽ tới B sớm hơn quy định 30 phút. Độ dài quãng đường AB là
 A. 288km B. 240km C. 220km D. 200km.
- Câu 6. Vật trung gian truyền bệnh sốt xuất huyết là
 A. muỗi vằn. B. ruồi nhà. C. muỗi Anophen. D. ruồi nhặng.
- Câu 7. Loài thú **không** có hình thức sinh sản đẻ con là
 A. cá heo. B. dơi. C. thú mỏ vịt. D. chuột túi.
- Câu 8. Khẳng định nào dưới đây đúng?
 A. Gang, thép và sắt đều có tính dẻo, dễ kéo thành sợi.
 B. Sắt thường có màu trắng xám và không có ánh kim.
 C. Gang, thép đều là hợp chất của các-bon và sắt.
 D. Nhôm màu trắng bạc, có ánh kim, nặng hơn sắt.
- Câu 9. Hỗn hợp nào dưới đây được gọi là dung dịch?
 A. Nước pha lẫn giấm B. Gạo lẫn với đỗ xanh
 C. Nước pha lẫn dầu ăn D. Xi măng trộn cát
- Câu 10. Người ta sử dụng năng lượng nước chảy để tạo ra dòng điện ở những nơi có đặc điểm nào dưới đây?
 A. Nơi gần biển, có nhiều gió B. Nơi có địa hình cao, có sông lớn
 C. Nơi có nhiều nắng, gió, địa hình cao D. Nơi có địa hình bằng phẳng, có sông lớn
- Câu 11. Trong các câu sau đây, câu nào là câu cầu khiến?
 A. Cô bé đi, đi mãi mà chưa tìm được lối ra khỏi khu rừng.
 B. Anh ấy biết đi đâu mà đi?
 C. Đi đường mới biết gian lao!
 D. Cậu đi đi không muộn giờ làm!
- Câu 12. Dựa vào ý nghĩa của tiếng “thiên”, ta có thể xếp các từ: *thiên di, thiên kiến, thiên niên kỉ, thiên binh vạn tướng, thiên lệch* thành mấy nhóm?
 A. 1 nhóm B. 2 nhóm C. 3 nhóm D. 4 nhóm

- Câu 13. Dựa vào cấu tạo từ, xác định một từ **không** thuộc nhóm: tinh tế, ôn ào, nóng nực, san sẻ.
 A. Tinh tế B. Ôn ào C. Nóng nực D. San sẻ
- Câu 14. Hãy xác định biện pháp tu từ được sử dụng trong hai dòng thơ sau:
*Mùa xuân nhân hậu quá
 Cho nụ cười trên môi
 Mùa xuân tươi tốt lạ
 Cho cây nở biếc chồi*
 (Mùa xuân kì diệu, Định Hải)
 A. So sánh B. Nhân hóa C. Đảo ngữ D. Liệt kê
- Câu 15. Xác định chủ ngữ của câu:
Có lần, thằng mèo đáng ghét nổi cơn khùng, cào một nhát sứt tai Đóm.
 (Đóm và Mun, Trần Đức Tiến)
 A. Có lần, thằng mèo
 B. thằng mèo
 C. thằng mèo đáng ghét
 D. thằng mèo đáng ghét nổi cơn khùng
- Câu 16. Phạm vi nhà nước Văn Lang – Âu Lạc tương ứng với khu vực nào trên lãnh thổ Việt Nam hiện nay?
 A. Bắc Bộ.
 B. Bắc Bộ, Bắc Trung Bộ.
 C. Bắc Bộ, Trung Bộ, Nam Bộ.
 D. Bắc Bộ, Trung Bộ.
- Câu 17. “Giải phóng một phần biên giới, củng cố và mở rộng căn cứ địa Việt Bắc, khai thông đường liên lạc quốc tế” là mục tiêu của Đảng ta khi mở chiến dịch nào?
 A. Chiến dịch Việt Bắc thu đông.
 B. Chiến dịch Hồ Chí Minh.
 C. Chiến dịch Biên giới thu đông.
 D. Chiến dịch Điện Biên Phủ.
- Câu 18. Chọn đáp án đúng để hoàn thành các chỗ trống trong câu sau: “Ở nước ta, đất (a).....tập trung chủ yếu ở vùng đồi núi và đất (b).....phân bố ở vùng đồng bằng”
 A. (a) Phù sa - (b) phe-ra-lit.
 B. (a) Cát - (b) phù sa.
 C. (a) Phe-ra-lit - (b) phù sa.
 D. (a) Đất cát - (b) đất mặn.
- Câu 19. “Đồi núi nước ta trải rộng khắp các tỉnh biên giới phía Bắc và chạy dài từ Bắc vào Nam”. Nhận định trên nói về đặc điểm nào của địa hình nước ta?
 A. Độ cao của địa hình khu vực đồi núi.
 B. Hướng nghiêng của địa hình đồi núi.
 C. Độ dốc của địa hình đồi núi.
 D. Sự phân bố của địa hình đồi núi.
- Câu 20. Câu thơ: “Bàn tay ta làm nên tất cả/ Có sức người sỏi đá cũng thành cơm” của nhà thơ Hoàng Trung Thông nói đến phẩm chất nào sau đây?
 A. Bảo vệ môi trường.
 B. Yêu lao động.
 C. Yêu Tổ quốc.
 D. Yêu quê hương.

- Câu 21. You _____ have bought the tickets yesterday. They've already sold out!
 A. might B. must C. can't D. should
- Câu 22. Have a piece of cake, _____?
 A. do you B. would you C. don't you D. haven't you
- Câu 23. It is very difficult to save the patient's life, _____ the doctors will try their best.
 A. but B. although C. despite D. however
- Câu 24. UNICEF _____ supports and funds for the most disadvantaged children all over the world.
 A. displays B. assists C. provides D. deals

Mark the letter A, B, C, or D to indicate the correct answers to complete the following dialogue.

(a). It's a street circus which performs in underused or abandoned public spaces in the city	(b). Great idea, but probably not that useful or practical in April – it rains most days, remember
(c). That'd encourage people to exercise instead of using the escalators. Good for your health, but perhaps not that good for the community	(d). OK, but not many people are into art

Tom: We must vote for the Innovative Community Competition. The most popular idea will receive money from the local authority.

Katie: What sort of ideas are they?

Tom: Well, there's one idea to install a slide instead of steps down to the underground train station on Warren Street.

Ryan: That sounds fun.

Tom: Another idea is to put musical steps in shopping malls.

Katie: (25) _____.

Tom: You're right. Here's another suggestion for a street party. Streets are closed off, the road is covered with artificial grass, then people come along and have a picnic, sunbathe, or play ball games!

Ryan: (26) _____.

Katie: Actually, I think this last idea is the best. (27) _____.

Ryan: That's a fantastic idea! It's important to highlight neglected parts of the city, like that plaza near the school. An event like this could encourage people to use these spaces again.

Tom: I totally agree. It has my vote.

Câu 25. A. (a) B. (b) C. (c) D. (d)

Câu 26. A. (a) B. (b) C. (c) D. (d)

Câu 27. A. (a) B. (b) C. (c) D. (d)

Read the following passage and mark the letter A, B, C or D to indicate the correct word or phrase that best fits each of the numbered blanks.

The history of writing

The development of writing (28) _____ a huge difference to the world and might see it at the beginning of the media. Pieces of pottery with marks on that are probably numbers have been discovered in China that date from around 4000 BC. Hieroglyphics and other forms of "picture writing" developed in the (29) _____ around Mesopotamia (modern-day Iraq), where the ancient Sumerian civilization was based, from around 3300 BC onwards. However, the first (30) _____ alphabet was used by the Phoenicians around 1050BC. Their alphabet had 22 letters and it is estimated that it lasted for 1000 years. The first two signs were called "aleph" and "beth", which in Greek became "alpha" and "beta" which gave us the modern word "alphabet". The modern European alphabet is based on the Greek and (31) _____ to other European countries under the Romans. A number of changes took place as time passed. The Romans added the letter G, and the letter J and V were unknown to people in Shakespeare's time.

If we (32) _____ the history of punctuation, we also find some interesting facts. The Romans used to write "quaesto" at the end of a sentence in order to show that it was a question. Then they started to write "Qo" in place of the whole word, and then put the Q above the O. In the end, that became the question mark "?".

Taken and adapted from ULIS' compiled internal supplementary exercises

Câu 28. A. Did B. had C. made D. took

Câu 29. A. Distance B. area C. length D. time

Câu 30. A. True B. accurate C. exact D. precise

Câu 31. A. Spread B. appeared C. was D. occurred

Câu 32. A. hold up B. bring on C. make off D. look into

Read the following passage and mark the letter A, B, C, or D to indicate the correct answer to each of the questions.

Master of disguise

Octopuses are famous for their round bodies, big eyes, and eight arms. There are many different types of octopuses, but all are alike in one way: They are masters of disguise. Octopuses can change their appearance in less than a second to look like rocks, plants, or even other animals. How do they do this?

An octopus can disguise itself in three ways. One is by using color. An octopus's skin has special cells called chromatophores. These cells are filled with yellow, brown, and red pigment. When an octopus moves its muscles a certain way, the cells become large and produce colorful spots and other patterns on its skin. Chromatophores can also reflect light. In blue light, for example, an octopus's skin will look blue. In white light, its skin will look white. With these cells, an octopus can produce many different skin colors and patterns.

An octopus can also change its skin texture. When the octopus moves its muscles, its skin can go from smooth to spiky. It might then look like a plant, or coral. Another way an octopus disguises itself is by changing its shape. Some, for example, roll their bodies into balls so they look like rocks. One type of octopus can change its form to look like other sea creatures - especially dangerous ones, such as sea snakes.

Why are octopuses so good at disguising themselves? They have to be. The ocean is not a safe place for them. Because they have no bones in their bodies, octopuses are like large pieces of meat. Many predators want to eat them - and **they** can eat them whole. To survive, octopuses have developed the amazing ability to change their appearance very quickly in order to hide from predators.

Taken and adapted from National Geographic Reading Explorer

Câu 33. What would be the best alternative title for this passage?

- A. The Mind of an Octopus
- B. How an Octopus Hides
- C. Octopus Numbers on the Rise
- D. The Magical Skin of an Octopus

Câu 34. Which of these sentences is NOT true?

- A. Chromatophores are light-reflecting cells.
- B. Chromatophores can change in size.
- C. Chromatophores produce an animal's skin texture.
- D. Chromatophores can change the animal's color.

Câu 35. In red light, an octopus probably appears _____.

- A. blue.
- B. white.
- C. yellow.
- D. red.

- Câu 36. In the third paragraph, the author suggests that some corals _____.
 A. can change their color.
 B. can roll themselves into balls.
 C. have spiky outer surface.
 D. can look like sea snakes.
- Câu 37. What does "they" refer to in the last paragraph?
 A. predators. B. octopuses. C. bones. D. bodies.

Mark the letter A, B, C or D to indicate the sentence that is closest in meaning to each of the following sentences.

- Câu 38. The hotel is not spacious. The hotel is not comfortable.
 A. The hotel is not spacious but comfortable.
 B. The hotel is neither spacious or comfortable.
 C. The hotel is both spacious and comfortable.
 D. The hotel is neither spacious nor comfortable.
- Câu 39. Their holiday plans fell through because there was a strike at the airport.
 A. They couldn't go on holiday as planned as a result of a strike at the airport.
 B. They failed to go on holiday like they had planned so a strike took place at the airport.
 C. A strike at the airport almost put a stop to their holiday plans.
 D. Disappointingly, they lost their holiday suitcases during a strike at the airport.
- Câu 40. The children couldn't go swimming because the sea was too rough.
 A. The children were not calm enough to swim in the sea.
 B. The sea was rough enough for the children to swim in.
 C. The sea was too rough for the children to go swimming.
 D. The sea was too rough to the children's swimming.

II. TỰ LUẬN (50 phút)

PHẦN 1: PHẦN ĐÁNH GIÁ NĂNG LỰC TOÁN

Trong đợt trồng cây mùa xuân, ngày đầu, lớp 5A trồng được số cây bằng $\frac{4}{5}$ số cây của lớp 5B. Ngày thứ hai, lớp 5A trồng thêm 40 cây, lớp 5B trồng thêm 75 cây nên số cây của lớp 5A bằng $\frac{2}{3}$ số cây của lớp 5B. Tính số cây mỗi lớp trồng được sau hai ngày.

PHẦN 2: PHẦN ĐÁNH GIÁ NĂNG LỰC TIẾNG VIỆT

Tác giả Nguyễn Thế Hoàng Linh đã viết:

Trên cành cây có cành cây. Trên cành cây có cành đầy những hoa. Trên cành cây có hôm qua, hôm nay và cả món quà: Mùa xuân! ...

Chạy qua con phố là đê. Con diều được thả lên thê trên trời. Hai con diều nữa rạng ngời, những con bạch tuộc sống đời tự do...

Trẻ con qua phố hàng đàn. Đèn xanh, đèn đỏ ngập tràn yêu thương. Dòng xe – cá dưới đại dương. Mùi thơm từ những nẻo đường quá quen.

(Mùa xuân)

Khung cảnh khu phố vào mùa xuân hiện lên thật sinh động, thân quen. Bằng trải nghiệm thực tế và trí tưởng tượng của mình, em hãy viết đoạn văn (khoảng 100 từ) miêu tả lại khu phố/ thôn xóm nơi em sinh sống vào một mùa trong năm.

PHẦN 3: PHẦN ĐÁNH GIÁ NĂNG LỰC TIẾNG ANH

- Bài 1. Look at the following picture and write a paragraph to describe it in about 80 words.



- Bài 2. You have received some good news and want to tell your friend in Australia about it. Write an email to your friend. In your email, you should: explain your good news, say how you feel about it and ask about your friend's family. Write about 100 words.

ĐỀ SỐ 5

I. TRẮC NGHIỆM (50 phút)

- Câu 1. Một can dầu cân nặng 40kg, trong đó lượng dầu bằng 95% khối lượng của cả can dầu. Bà Thảo lấy đi một lượng dầu nên lượng dầu còn lại bằng 90% khối lượng của cả can dầu lúc đó. Khối lượng dầu bác Thảo đã lấy đi là
 A. 2kg B. 4kg C. 20kg D. 38kg
- Câu 2. Một mảnh giấy hình chữ nhật lớn có thể chia được thành 7 hình chữ nhật nhỏ bằng nhau như hình vẽ bên. Nếu diện tích của mỗi hình chữ nhật nhỏ là 1440 cm^2 thì chu vi của nó là
 A. 168 cm B. 144 cm C. 84 cm D. 21 cm
- Câu 3. Khi xếp một số hình lập phương nhỏ bằng nhau cạnh 1cm, bạn Thảo Anh thu được một hình lập phương lớn có thể tích 125 cm^3 . Sau đó, bạn lấy ra một hình lập phương nhỏ ở chính giữa mặt trên cùng để được một hình mới. Diện tích toàn phần của hình mới là
 A. 145 cm^2 B. 150 cm^2 C. 154 cm^2 D. 155 cm^2
- Câu 4. Cùng một công việc, nếu nhóm 1 làm một mình thì hoàn thành trong 9 giờ, nếu nhóm 2 làm một mình thì hoàn thành trong 12 giờ. Thực tế nhóm 1 đã làm một mình trong một khoảng thời gian, sau đó nhóm 2 hoàn thành nốt phần công việc còn lại, tổng thời gian hai nhóm làm xong công việc là 10 giờ. Thời gian thực tế nhóm 2 đã làm việc là
 A. 3 giờ B. 4 giờ C. 5 giờ D. 6 giờ 15 phút
- Câu 5. Có một cái can bé 12 lít, một cái can lớn 18 lít, trong mỗi can đựng một số lít nước. Nếu đổ nước từ can bé sang cho đầy can lớn thì phần nước còn lại bằng $\frac{5}{7}$ ban đầu. Nếu đổ nước từ can lớn sang cho đầy can bé thì phần nước còn lại bằng 90% ban đầu. Tổng số lít nước hai can đó là
 A. 28,2 lít B. 26,5 lít C. 26 lít D. 25,5 lít
- Câu 6. Chất lỏng có đặc điểm nào dưới đây?
 A. Chiếm toàn bộ thể tích vật chứa nó, không nhìn thấy.
 B. Có hình dạng xác định, nhìn thấy được.
 C. Có hình dạng của vật chứa nó, nhìn thấy được.
 D. Không có hình dạng xác định, không nhìn thấy.
- Câu 7. Trong quá trình làm muối biển truyền thống, thời tiết nào dưới đây được coi là thuận lợi?
 A. Trời nắng to và có gió B. Trời mưa phùn
 C. Trời râm mát D. Độ ẩm trong không khí cao
- Câu 8. Việc làm nào dưới đây góp phần bảo vệ môi trường và tài nguyên thiên nhiên?
 A. Sử dụng kích điện trong đánh bắt thủy, hải sản để đạt hiệu quả cao.
 B. Sử dụng nhiều phân bón hóa học trong trồng trọt để tăng năng suất.
 C. Sử dụng các phương tiện giao thông chạy bằng điện thay xăng dầu.
 D. Sử dụng bếp than tổ ong để đun nấu, giảm chi phí khi giá ga cao.
- Câu 9. Cơ quan **không** thuộc hệ tiêu hoá là
 A. lá lách. B. dạ dày. C. tụy. D. ruột non.
- Câu 10. “Màu sắc sặc sỡ, có hương thơm và mật ngọt” là những đặc điểm của hoa được thụ phấn nhờ
 A. ong. B. gió. C. chim. D. dơi.

- Câu 11. Xác định câu thể hiện lời khuyên của dân gian về cách nói năng:
 A. Ăn to, nói lớn B. Lời nói gió bay
 C. Lời nói chẳng mất tiền mua D. Nói ngọt như mía lùi
 Lựa lời mà nói cho vừa lòng nhau
- Câu 12. Từ nào dưới đây là từ ghép tổng hợp?
 A. Trắng tinh B. Trắng trong C. Trắng ngà D. Trắng muốt
- Câu 13. Có bao nhiêu cách liên kết câu được sử dụng trong đoạn văn sau:
 (1) Đến bây giờ, dân làng không còn ai biết rành rọt chuyện hai ông tướng canh điền, ông thất đai lưng xanh và ông thất đai lưng vàng. (2) Nhưng cái bệ gạch của ông tướng thất đai lưng xanh bị trúng đạn pháo của giặc vẫn còn đó. (3) Nên người làng vẫn thấp hương thờ và tưởng tượng thấy ông. (Ông tướng canh điền, Nguyễn Kiên)
 A. 1 B. 2 C. 3 D. 4
- Câu 14. Câu “Bảo mời Việt tới dự sinh nhật.” là câu khiến trong trường hợp nào dưới đây?
 A. Bảo nói với Việt
 B. Việt nói với Hưng
 C. Hưng nói với Việt
 D. Việt nói với Bảo
- Câu 15. Xét về nghĩa, tiếng “phúc” trong từ nào dưới đây khác với tiếng “phúc” trong các từ còn lại?
 A. Phúc hậu B. Phúc lợi C. Hạnh phúc D. Phúc đáp
- Câu 16. Tên gọi nào sau đây không phải của Bác Hồ trong thời kì 1890 – 1911?
 A. Nguyễn Sinh Cung
 B. Nguyễn Ái Quốc
 C. Nguyễn Tất Thành
 D. Văn Ba
- Câu 17. Tên nước Cộng hòa xã hội chủ nghĩa Việt Nam chính thức xuất hiện vào năm nào?
 A. 1945 B. 1976 C. 1975 D. 1979
- Câu 18. Giải thích nguyên nhân tại sao châu Mỹ có nhiều đới khí hậu?
 A. Do ảnh hưởng của nhiều dòng biển chảy ven bờ.
 B. Do lãnh thổ kéo dài từ cực Bắc đến gần cực Nam.
 C. Do lãnh thổ trải rộng theo chiều Tây- Đông.
 D. Do có nhiều dãy núi cao, đồ sộ.
- Câu 19. Giải thích vì sao châu Phi có khí hậu khô, nóng bậc nhất thế giới?
 A. Do châu Phi có địa hình tương đối cao, toàn bộ châu lục được coi như khối cao nguyên khổng lồ.
 B. Do châu Phi nằm ở phía Nam châu Âu và phía Tây Nam châu Á.
 C. Do châu Phi có nhiều hoang mạc, ít sông, hồ.
 D. Do châu Phi nằm trong vòng đai nhiệt đới, diện tích rộng lớn, lại không có biển ăn sâu vào đất liền.
- Câu 20. Em tán thành với những ý kiến nào sau đây?
 1) Nam giới có sức khỏe tốt hơn nữ giới, nên nam giới phải là chủ gia đình.
 2) Trẻ em trai và trẻ em gái luôn có quyền được đối xử bình đẳng.
 3) Việc nhà là trách nhiệm của mẹ, còn kiếm tiền là trách nhiệm của bố.
 4) Trong gia đình, các thành viên cần tôn trọng và lắng nghe ý kiến của nhau.
 5) Chỉ có con trai mới cần được học tập để phát triển, còn con gái thì không.
 A. 1 và 3 B. 2 và 4 C. 3 và 5 D. 1 và 5

- Câu 21. Those two _____ are chasing other animals on the farm.
A. geese B. geoses C. goose D. goeey
- Câu 22. If it weren't for his _____ over my essay, I couldn't know these spelling mistakes.
A. looking B. look C. to look D. to looking
- Câu 23. The campers remained _____ despite the thunderstorm.
A. calm B. calmly C. calming D. calmingly
- Câu 24. She really wanted to eat ice cream; _____, she had a salad.
A. however B. likewise C. meanwhile D. instead

Mark the letter A, B, C, or D to indicate the correct answers to complete the following dialogue

(a) The dancing looked like something from another planet!	(b) It's really not like their other stuff, but couldn't stop listening to it.
(c) That can be a burden to the artists.	(d) The routines themselves were quite like other videos I've seen.

Boy: Have you seen the video for Lionheart's new song yet?

Girl: Yes, I watched it last night. (25) _____

Boy: Maybe I'll start to like it once I've heard it a few more times. I don't think I've ever seen such an incredible video, though.

Girl: I think they hired a Hollywood director to make it - you can tell because of the quality.

Boy: (26) _____

Girl: I thought it was the costumes that created that effect. (27) _____

Câu 25. A. (a) B. (b) C. (c) D. (d)

Câu 26. A. (a) B. (b) C. (c) D. (d)

Câu 27. A. (a) B. (b) C. (c) D. (d)

Read the following passage and mark the letter A, B, C or D to indicate the correct word or phrase that best fits each of the numbered blanks.

Elephants

When you think about the (28) _____ of an elephant, do you think of their massive trunk beautiful ivory tusks, large flapping ears, or just their immense size? As you may already know elephants are the largest land animals in the world today. (29) _____ part of their anatomy is helpful to the elephant to survive in their environment. But it is the elephant's trunk that is the (30) _____ important to them.

Because their trunk has over 40,000 muscles, it allows the elephant to move it in many different positions. It gives them the ability to grasp and pick up objects. Elephants are known for their strong trunks. In (31) _____, they could uproot large trees from the ground if they needed to. Elephants have an excellent sense of smell, but they also use their trunks for many other purposes, such as breathing, drinking, eating, showing affection. Even though an elephant has a total of 24 sharp teeth, they only (32) _____ to use two or three of these teeth.

Câu 28. A. marks B. points C. features D. articles

Câu 29. A. None B. Both C. Each D. All

Câu 30. A. best B. most C. more D. worst

Câu 31. A. order B. fact C. advance D. case

Câu 32. A. make B. do C. set D. put

Read the following passage and mark the letter A, B, C, or D to indicate the correct answer to each of the questions.

Viruses are microscopic particles that are not really alive but still attack the cells of living things. They enter a plant or animal's cell. They then multiply into more viruses that enter more cells. When a virus attacks you for the first time, your body doesn't know how to combat it and you become ill. However, after you recover, your body is able to recognize that virus. [A] You are, therefore, less likely to get sick if it enters your body again.

One disease caused by a virus is the flu (short for influenza). You can catch the flu in any season, but each winter, it attacks millions of people around the world. [B] Although it often feels like a very bad cold, the flu is much more serious. It kills hundreds of thousands of people every year. In some years, it is even worse than that. Twenty million people died of flu in 1918. [C]

Other viral diseases, such as polio, have been almost eliminated through the use of vaccines. [D] Can't we do the same with the flu? The problem is that the flu virus changes in minor ways each year. These changes make it much more difficult to develop vaccines that work well.

Câu 33. Which of the following is true?

- A. Viruses are living things.
B. Viruses only attack animals.
C. Viruses multiply inside the body.
D. The human body cannot fight viruses.

Câu 34. Which is the best place for the following sentence?

For days, they suffer from fever, a sore throat, coughing, and body aches.

- A. [A] B. [B] C. [C] D. [D]

Câu 35. According to the passage, why are you less likely to get sick the second time a virus enters your body?

- A. The virus is not really alive.
B. The virus is unable to multiply.
C. Your body will not recognize the virus.
D. Your body is able to recognize that virus.

Câu 36. The word "They" refers to:

- A. viruses B. cells C. things D. animals

Câu 37. What can be inferred from the reading?

- A. Millions of people die from the flu every year.
B. You are more likely to get sick if the flu enters your body for the first time.
C. It is impossible to have the flu more than once.
D. People only get the flu in water.

Mark the letter A, B, C or D to indicate the sentence that is closest in meaning to each of the following sentences.

Câu 38. It's more than a couple of years since I last went there.

- A. I have never stayed there for longer than two years.
B. It was only after two years that I went there again.
C. I haven't been there since my visit over two years ago.
D. I had never been there until the year before last.

Câu 39. They have just sent an ambulance to the school.

- A. An ambulance has just been sent to the school.
B. An ambulance has just been sent to the school.
C. An ambulance has just sent to the school.
D. An ambulance has just being sent to the school.

- Câu 40. My computer always crashes when a CD is inserted.
 A. If I insert a CD, my computer will crash.
 B. If I insert a CD, my computer crashes.
 C. If you want my computer to crash, insert a CD.
 D. Unless you want my computer to crash, insert a CD

II. TỰ LUẬN (50 phút)

PHẦN 1: PHẦN ĐÁNH GIÁ NĂNG LỰC TOÁN

Vào lúc 9 giờ sáng, một xe tải và một xe máy cùng bắt đầu đi từ A đến B. Vận tốc của xe tải là 55 km/giờ, vận tốc của xe máy là 35 km/giờ. Vào lúc 11 giờ, một xe con bắt đầu đi từ A đến B với vận tốc 70 km/giờ. Hỏi lúc mấy giờ thì xe con đó ở vị trí cách đều xe tải và xe máy?

PHẦN 2: PHẦN ĐÁNH GIÁ NĂNG LỰC TIẾNG VIỆT

*Năm tháng qua tôi đã đổi thay nhiều
 Các anh xưa, tóc bây giờ chắc bạc
 Nhưng ngọn lửa đã bùng lên tiếng hát
 Vẫn diệu kỳ trong suốt tuổi thơ tôi.*

(*Ngọn lửa tuổi thơ*, Xuân Quỳnh)

Dù tháng năm có đổi thay, những kỉ niệm thơ ấu vẫn luôn là những điều đẹp đẽ trong kí ức của mỗi chúng ta. Hãy viết một đoạn văn khoảng 100 từ kể lại một kỉ niệm đẹp trong tuổi thơ em.

PHẦN 3: PHẦN ĐÁNH GIÁ NĂNG LỰC TIẾNG ANH

- Bài 1. Look at the following picture and write a paragraph to describe it in about 80 words.



- Bài 2. In about 100 words, write about a time when you finally mastered a skill or a lesson after spending forever practicing or studying it. How did you feel when you were done? Do you still remember what you learned?

I. TRẮC NGHIỆM (50 phút)

- Câu 1. Số tự nhiên lớn nhất có 2 chữ số chia hết cho cả 3 và 5 thì có tổng các chữ số là
 A. 8 B. 9 C. 11 D. 13
- Câu 2. 15 công nhân làm việc trong 6 ngày sẽ tạo ra 360 sản phẩm. Nếu năng suất của các công nhân là như nhau và không đổi trong suốt quá trình làm việc, thì 5 công nhân làm việc trong 12 ngày sẽ tạo ra số sản phẩm là
 A. 240 B. 288 C. 300 D. 320
- Câu 3. My có bể cá hình hộp chữ nhật không nắp, đáy bể là hình chữ nhật với chiều dài 60 cm và chiều rộng 50 cm. Ngày thường, bể cá luôn đầy nước, nhưng hôm nay do My lấy một hòn non bộ ra để vệ sinh thì mực nước còn thấp hơn 10 cm so với ngày thường. Thể tích của hòn non bộ là



- A. 3 000 cm³ B. 6 000 cm³ C. 30 000 cm³ D. 60 000 cm³
- Câu 4. Trên giá sách có 3 ngăn, số sách ở ngăn thứ nhất bằng $\frac{7}{18}$ số sách hai ngăn còn lại; số sách ở ngăn thứ hai bằng $\frac{9}{11}$ số sách hai ngăn còn lại. Biết ngăn thứ nhất chứa ít hơn ngăn thứ hai là 85 quyển. Ngăn thứ ba có số sách là
 A. 140 cuốn B. 225 cuốn C. 120 cuốn D. 135 cuốn
- Câu 5. Diệp đi từ A và Linh đi từ B cùng xuất phát hướng về phía nhau, Linh là người có vận tốc lớn hơn. Họ gặp nhau ở một vị trí cách A một khoảng 6 km và tiếp tục hành trình của mình. Khi Diệp đến B, cô ấy lập tức lái xe quay ngược trở về A và gặp Linh cũng lập tức lái xe từ A trở về B. Lần này hai người gặp nhau ở vị trí cách B một khoảng 4 km. Độ dài quãng đường AB là
 A. 10 km B. 14 km C. 18 km D. 20 km
- Câu 6. Triệu chứng “*da bị vàng và thường bị đau bụng ở phía dưới bên phải*” là biểu hiện của bệnh
 A. sốt xuất huyết. B. viêm gan. C. viêm ruột thừa. D. sốt rét.
- Câu 7. Muốn gia tăng hiệu quả trao đổi khí thì cần ổn định trạng thái và tăng hiệu quả hoạt động của
 A. hệ tuần hoàn. B. hệ sinh dục. C. hệ tiêu hoá. D. hệ bài tiết.
- Câu 8. Khi bị tiêu chảy cấp hoặc làm việc quá lâu trong môi trường nóng bức, các bác sĩ thường khuyên nên sử dụng ô-rê-zôn để
 A. bổ sung lại nước và các chất điện giải cho cơ thể.
 B. bổ sung thêm năng lượng giúp thúc đẩy quá trình tái hấp thu các chất.
 C. bổ sung thêm vitamin C để làm tăng sức đề kháng cho cơ thể.
 D. bổ sung lại một số vi khuẩn có lợi cho quá trình tiêu hóa.
- Câu 9. Trường hợp nào dưới đây đảm bảo an toàn khi sử dụng các thiết bị điện?
 A. Tay cầm vào chốt cắm của phích điện khi cắm vào ổ điện.
 B. Để ổ cắm điện, dây điện cạnh nguồn nước.
 C. Ngắt dòng điện trước khi sửa chữa các thiết bị điện.
 D. Bật bình nóng lạnh khi đang sử dụng nước nóng từ bình này.

- Câu 10. Nhóm các chất nào sau đây dẫn nhiệt tốt?
A. Đồng, gốm, thủy tinh
B. Sứ, gỗ, thép
C. Thủy tinh, sứ, gốm
D. Nhôm, đồng, gang
- Câu 11. Dòng nào dưới đây chứa toàn từ láy?
A. quây quây, hu hu, lâu lâu, thoả thoả
B. đàm đạo, thể thống, lát phật, vương vấn
C. hiệu triệu, chán chường, lệt đệt, khư khư
D. hăm hăm, lóc cóc, hăm hăm, trang trí
- Câu 12. Xét về ý nghĩa, yếu tố Hán Việt “đại” trong các từ sau có thể chia thành mấy nhóm?
đại bác, đại đoá, đại diện, đại biểu, đại lễ, đại lộ, đại từ, đại sứ
A. 01 nhóm
B. 02 nhóm
C. 03 nhóm
D. 04 nhóm
- Câu 13. Trong các câu dưới đây, câu nào **không** sử dụng biện pháp tu từ nhân hoá?
A. *Những hạt đỗ nằm trong đất ẩm, thấy trong người rạo rục, râm râm cảm giác của sự sinh nở.* (Câu chuyện còn giấu kín sau lớp vỏ, Trần Hoài Dương)
B. *Thanh đất nung đi thăm vườn; cây hoàng lan cao vút, cành lá rủ xuống như chào đón hai người.* (Dưới bóng hoàng lan, Thạch Lam)
C. *Tiếng hát dịu dặt của Hoa Mi giục các loài chim dạo lên những khúc nhạc tung bừng, ca ngợi núi sông đang đổi mới.* (Hoa mi hát, Võ Quảng)
D. *Cốm không phải thức quà của người vội; ăn cốm phải ăn từng chút ít, thong thả và ngẫm nghĩ.* (Một thứ quà của lúa non: Cốm, Thạch Lam)
- Câu 14. Câu nào sau đây là câu ghép?
A. *Mùa thu, trời như một chiếc dù xanh bay mãi lên cao.* (Mùa thu ở làng quê, Nguyễn Trọng Tạo)
B. *Lăng của các vua Hùng kê bên đền Thượng, ẩn trong rừng cây xanh xanh.* (Phong cảnh đền Hùng, Đoàn Minh Tuấn)
C. *Mùa nắng, đất nê chân chim, nền nhà cũng rạn nứt.* (Đất Cà Mau, Mai Văn Tạo)
D. *Trên cái đất phập phều và lấm gió, đông như thế, cây đứng lẻ khỏ mà chống nổi với những cơn thịnh nộ của trời.* (Đất Cà Mau, Mai Văn Tạo)
- Câu 15. Dấu phẩy ở vị trí số (3) trong câu văn dưới đây có tác dụng gì?
Hồi cuối thu, (1) bác ta béo núng nính, (2) lông mượt, (3) da căng tròn như một trái sim chín vậy mà bây giờ teo tóp, (4) lông lôm chôm trông thật tội nghiệp.
(Tiếng Múa Xuân, Trần Hoài Dương)
A. Ngăn cách thành phần phụ với thành phần nòng cốt trong câu
B. Ngăn cách các thành phần cùng giữ chức vụ làm chủ ngữ trong câu
C. Ngăn cách các thành phần cùng giữ chức vụ làm vị ngữ trong câu
D. Ngăn cách các vế trong một câu ghép
- Câu 16. Trong thời kì Bắc thuộc, các triều đại phong kiến phương Bắc đã thực hiện chính sách đồng hóa văn hóa nhân dân ta. Tuy nhiên, chính sách nào sau đây **không** được thực hiện?
A. Đưa người Hán sang ở lẫn với người Việt.
B. Bắt nhân dân ta phải học chữ Hán, nói tiếng Hán, sống theo luật pháp người Hán.
C. Mở trường học trên khắp các làng xóm người Việt để phổ biến chữ Hán nhanh chóng.
D. Truyền bá Nho giáo vào nước ta, buộc nhân dân phải tuân theo tư tưởng “trung quân ái quốc”
- Câu 17. Phong trào Đồng khởi được mở đầu ở địa phương nào?
A. Bình Định
B. An Giang
C. Bạc Liêu
D. Bến Tre

- Câu 18. Tại sao sông ngòi nước ta có lượng nước thay đổi theo mùa?
A. Do lượng nước ngầm thay đổi theo mùa.
B. Do lượng mưa thay đổi theo mùa.
C. Do thủy triều thay đổi theo mùa.
D. Do có hai mùa gió khác nhau.
- Câu 19. Ở miền nào nước ta thường xuyên có bão, gây thiệt hại cho tàu thuyền và những vùng ven biển?
A. Miền Trung và miền Nam.
B. Miền Bắc và miền Nam.
C. Miền Bắc và miền Trung.
D. Miền Đông và miền Tây.
- Câu 20. Câu chuyện về ông Đỗ Đình Thiện, một nhà tư sản lớn ở Hà Nội, người đã ủng hộ 13 vạn đồng Đông Dương, 64 lạng vàng và nhiều tấn thóc cho cách mạng mà em đã được đọc trong Sách giáo khoa Tiếng Việt lớp 5 cho thấy điều gì?
A. Ông Thiện là một nhà tư sản yêu nước.
B. Ông Thiện là một nhà tư sản tiết kiệm.
C. Ông Thiện không biết cách giữ tài sản.
D. Ông Thiện là một nhà tư sản trung thực.
- Câu 21. You won't pass the final term test _____ you revise the old lessons carefully.
A. when
B. if
C. unless
D. without
- Câu 22. Pupils and students enrich their minds _____ knowledge they get from class.
A. about
B. with
C. in
D. from
- Câu 23. The dentist asked her to open her mouth _____.
A. wide.
B. widely.
C. widening.
D. widenly.
- Câu 24. If you _____ your mind about attending Mr. Jones's lecturer, just give me a call.
A. change
B. keep
C. decide
D. give

Mark the letter A, B, C, or D to indicate the correct answers to complete the following dialogue.

(a). It was a pity you weren't there.	(b). That'd be unbelievable, but fairly unlikely as I hardly ever play football.
(c). Well, the teacher was so impressed with it, she gave me a book.	(d). I know, but it still takes time.

Ben: You don't usually look so happy at the end of a school day.

Gilda: That's because we've usually been given a load of maths problems to do for the next day. Not today, though.

Ben: But you're good at maths - you usually get high marks.

Gilda: (25) _____. Anyway, you know I finished that physics project last week?

Ben: Yeah.

Gilda: (26) _____.

Ben: Wow, that's great. Next thing you know, they'll make you captain the football team.

Gilda: That'd be unbelievable, but fairly unlikely as I hardly ever play football. (27) _____.

Câu 25. A. (a) B. (b) C. (c) D. (d)

Câu 26. A. (a) B. (b) C. (c) D. (d)

Câu 27. A. (a) B. (b) C. (c) D. (d)

Read the following passage and mark the letter A, B, C or D to indicate the correct word or phrase that best fits each of the numbered blanks.

London Parks

London is famous (28) _____ its parks and gardens. Some of them belong to the Crown, but they are all open to the public, and the entrance is free of charge. In St James's Park, you can watch and (29) _____ swans, ducks, geese, and other water birds. Hyde Park (30) _____ to be a hunting ground and is still popular with horse riders.

Those who like a good argument should go to the Speakers' Corner to listen to individuals (31) _____ speeches on various subjects. Regent's Park now houses London Zoo and open-air theatre where Shakespeare's plays are staged in summer. Not (32) _____ the parks are in the city centre. Greenwich and Richmond are located in the suburbs. All these areas of green give the city dwellers an excellent chance to enjoy some peace away from traffic and crowded streets.

- Câu 28. A. by B. for C. from D. with
 Câu 29. A. feed B. eat C. breed D. lead
 Câu 30. A. should B. ought C. used D. have
 Câu 31. A. doing B. giving C. taking D. talking
 Câu 32. A. each B. whole C. every D. all

Read the following passage and mark the letter A, B, C, or D to indicate the correct answer to each of the questions.

To the moon

In 1969, three people in a tiny spaceship made history with a trip the world will never forget. NASA officials selected Michael Collins, Edwin "Buzz" Aldrin, and Neil Armstrong. The first manned lunar landing mission was called Apollo 11, and their destination was the Moon. Tens of thousands of people worked on the Apollo project to send those men to the Moon. The project, also known as the Apollo program, took ten years of preparation. The first Apollo flight was a disaster because the spacecraft caught fire on the ground. But NASA continued with the Apollo program. During future space missions, the astronauts practiced flying their space crafts. They also performed the tasks they needed to know so that they were able to fly to the Moon and land on it. On the Apollo 8 mission, the astronauts flew around the Moon ten times. They were almost ready for the first Moon landing. The rocket that carried the spacecraft and the astronauts into orbit around the Moon was called the Saturn 5. It blasted through space at a speed of at least 25,000 miles an hour. Even at that speed, it took 3 days, 3 hours, and 49 minutes to reach the Moon. The Apollo 11 mission used a lunar module designed only for landing on the Moon. It was called the "Eagle." On July 20, 1969, the Eagle landed on the Moon's desolate surface. Only two astronauts stepped on the Moon that day. Neil Armstrong became the first person to walk on the Moon. Edwin "Buzz" Aldrin followed about twenty minutes later. The astronauts set up a TV camera, and the whole world watched the landing on TV. Michael Collins waited for them in the spacecraft and orbited the Moon. His job was to take care of the spacecraft that would take them back home. He had to make sure nothing happened to it!

- Câu 33. What is the writer's main purpose in writing the text?
 A. to talk about Edwin "Buzz" Aldrin.
 B. to talk about the first trip to the Moon.
 C. to explain that the first Apollo mission was a disaster.
 D. to explain how difficult it is to travel in space.
- Câu 34. Which Apollo mission took the first astronauts to land on the Moon?
 A. Apollo 11. B. Apollo 1. C. Apollo 8. D. Apollo 6.

- Câu 35. How did the "Eagle" arrive at the Moon?
 A. It was sent there by satellite.
 B. It flew there on its own.
 C. Neil Armstrong sent it there.
 D. It was carried by the Saturn 5 rocket.
- Câu 36. How many astronauts walked on the Moon on July 20, 1969?
 A. One. B. Two. C. Three. D. Four.
- Câu 37. What can a reader find out from the text?
 A. Why the Apollo program was so successful.
 B. How much did the Apollo program cost.
 C. When did humans first visit the Moon.
 D. Who was the commander of Apollo 11.

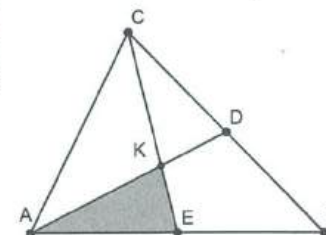
Mark the letter A, B, C or D to indicate the sentence that is closest in meaning to each of the following sentences.

- Câu 38. My school has no playground equipment or extra activities.
 A. I wish my school had had playground equipment or extra activities.
 B. I wish my school had playground equipment or extra activities.
 C. I wish my school can have playground equipment or extra activities.
 D. I wish my school will have playground equipment or extra activities.
- Câu 39. Did you always eat sweets when you were small?
 A. Were you use to eat sweets when you were small?
 B. Did you used to eat sweets when you were small?
 C. Were you used to eat sweets when you were small?
 D. Did you use to eat sweets when you were small?
- Câu 40. We last visited Ho Chi Minh city 3 years ago.
 A. We didn't visit Ho Chi Minh city for 3 years.
 B. We haven't visited Ho Chi Minh city for 3 years.
 C. We haven't visited Ho Chi Minh city for 3 years ago.
 D. We didn't visit Ho Chi Minh city for 3 years go.

II. TỰ LUẬN (50 phút)

PHẦN 1: PHẦN ĐÁNH GIÁ NĂNG LỰC TOÁN

Cho hình bên, D là điểm chính giữa cạnh CB và E là điểm chính giữa cạnh AB . Đoạn thẳng CE cắt AD tại K . Biết rằng diện tích tam giác AKE là 14cm^2 , tính diện tích tam giác ABC .



PHẦN 2: PHẦN ĐÁNH GIÁ NĂNG LỰC TIẾNG VIỆT

Cày đồng đang buổi ban trưa


Mồ hôi thành thối như mưa ruộng cày.

(Ca dao)

Câu ca dao trên giúp em cảm nhận sâu sắc nỗi vất vả của những người nông dân để làm ra hạt gạo trắng ngần. Hãy tả lại hình ảnh bác nông dân đang làm việc trên đồng ruộng bằng một đoạn văn khoảng 100 từ.

PHẦN 3: PHẦN ĐÁNH GIÁ NĂNG LỰC TIẾNG ANH

Bài 1: Look at the following picture and write a paragraph to describe it in about 80 words.



shutterstock.com · 377701252

Bài 2: In about 100 words, write about where you like to go when you need some time to be alone. What makes this place ideal for thinking and relaxing by yourself?

ĐỀ SỐ 7

I. TRẮC NGHIỆM (50 phút)

- Câu 1. Khi thực hiện phép cộng hai số thập phân, Nam đã viết nhầm dấu phẩy của một số hạng sang bên trái hai chữ số, do đó dẫn đến kết quả sai là 6,884. Biết tổng đúng là 129,05, hiệu của hai số ban đầu là
A. 117,75 B. 123,4 C. 126,582 D. 127,816.
- Câu 2. Một bể nước hình chữ nhật có chiều dài là 1,5m, chiều rộng 1,2m, chiều cao bằng $\frac{3}{4}$ chiều rộng. Bể đã hết nước, một người vừa đổ vào bể 30 gánh nước, mỗi gánh 45 lít. Mặt nước còn cách miệng bể một khoảng bằng
A. 10cm B. 15cm C. 45cm D. 75cm.
- Câu 3. Mười năm trước đây, tuổi mẹ gấp 10 lần tuổi con. Bốn năm nữa, tuổi mẹ gấp 3 lần tuổi con. Tuổi con sang năm là
A. 13 tuổi B. 14 tuổi C. 15 tuổi D. 16 tuổi.
- Câu 4. Một hình chữ nhật, một hình tam giác và một hình vuông có chu vi bằng nhau. Chiều dài hình chữ nhật gấp đôi chiều rộng. Tam giác có ba cạnh bằng nhau. Tổng diện tích của hình chữ nhật và hình vuông là 612cm^2 . Độ dài cạnh hình tam giác là
A. 12cm B. 18cm C. 20cm D. 24cm.
- Câu 5. Lúc 9 giờ, một người đi xe máy từ Hà Nội về quê với vận tốc 45km/giờ. Đi được một thời gian, người ấy nghỉ lại 40 phút để uống nước rồi lại tiếp tục đi với vận tốc 35km/giờ và về đến quê lúc 16 giờ kém 20 phút cùng ngày. Biết quãng đường từ Hà Nội về quê dài 230km, người ấy dừng lại nghỉ lúc
A. 13 giờ B. 12 giờ 30 phút C. 2 giờ D. 11 giờ.
- Câu 6. Việc làm nào dưới đây gây lãng phí điện năng?
A. Rút phích cắm của thiết bị điện sau khi sử dụng.
B. Sử dụng đèn Led thay bóng đèn dây tóc.
C. Bật bình nóng lạnh cả ngày để thuận tiện, cho việc sử dụng.
D. Đóng kín cửa khi bật điều hòa.
- Câu 7. Sự biến đổi hóa học là
A. sự chuyển thể của một chất từ thể rắn sang thể lỏng.
B. sự biến đổi từ chất này thành chất khác.
C. sự chuyển thể của một chất từ thể khí sang thể lỏng.
D. sự thay đổi hình dạng của vật.
- Câu 8. Nhà bạn An cạnh chợ nên rất ồn ào, ảnh hưởng đến việc học tập của An. Bố khuyên An nên đóng kín cửa khi học vì
A. Âm thanh không thể truyền qua cánh cửa là môi trường chất rắn.
B. Âm thanh từ bên ngoài đến gặp cánh cửa sẽ dội lại một phần.
C. Âm thanh từ bên ngoài đến gặp cánh cửa sẽ dội lại hoàn toàn.
D. Âm thanh giảm vận tốc khi qua môi trường chất rắn.
- Câu 9. Trong quá trình tiêu hoá và hấp thụ thức ăn, nếu chất độc bị ngấm vào máu thì chúng sẽ được lọc sạch khi đưa đến
A. tim. B. thận. C. dạ dày. D. gan.
- Câu 10. Con đường **không** làm lây nhiễm virus HIV là
A. lây từ mẹ sang con trong thai kì, khi sinh hoặc khi cho con bú.
B. lây truyền qua máu khi sử dụng chung bơm kim tiêm với người tiêm chích ma túy.
C. lây qua đường tình dục khi tiếp xúc với các dịch thể nhiễm HIV.
D. lây qua vật trung gian truyền bệnh là muỗi khi chúng chứa máu của người nhiễm HIV.

Câu 11. Cho các câu văn sau:

(1) Những cánh đồng lúa xanh mượt, dập dờn trong gió nhẹ; chúng đuổi nhau mãi, đuổi nhau mãi từ ven làng đến tận tập chân đê. (Mùa thu ở làng quê, Nguyễn Trọng Tạo)

(2) Con gió mùa hạ lướt qua vừng sen trên hồ, nhuần thấm cái hương thơm của lá, như báo trước mùa về của một thức quà thanh nhã và tinh khiết. (Một thức quà của lúa non, Thạch Lam)

(3) Nhựa sống ở trong người căng lên như máu căng lên trong lộc của loài nai, như mầm non của cây cối, phải trỗi ra thành những cái lá nhỏ tí ti giờ tay vẫy những cặp uyên ương đứng cạnh. (Mùa xuân của tôi, Vũ Bằng)

(4) Dưới chân đồi, những thửa ruộng lúa xanh mượt, uốn quanh co dưới trời nắng, lấp loáng như một khúc sông. (Làng, Kim Lân)

(5) Tôi quên thế nào được những cảm giác trong sáng ấy nảy nở trong lòng tôi như mấy cành hoa tươi mỉm cười giữa bầu trời quang đãng. (Tôi đi học, Thanh Tịnh)

Xét về cấu tạo câu, trình tự sắp xếp nào dưới đây đúng

- A. Câu đơn – Câu ghép – Câu đơn – Câu ghép – Câu đơn
B. Câu đơn – Câu đơn – Câu – đơn – Câu ghép – Câu ghép
C. Câu ghép – Câu đơn – Câu đơn – Câu đơn – Câu đơn
D. Câu ghép – Câu ghép – Câu đơn – Câu đơn – Câu ghép

Câu 12. Trong câu văn: “Tuổi thơ tôi đã hẳn sâu trong kí ức những ngọn núi trông xa lấp lánh như kim cương, lúc xanh mờ, khi xanh thắm, lúc tím lơ, khi rực rỡ như núi ngọc màu xanh.” (Tản văn Mai Văn Tạo) có bao nhiêu cụm chủ vị?

- A. 01 cụm chủ vị B. 02 cụm chủ vị C. 03 cụm chủ vị D. 04 cụm chủ vị

Câu 13. Trong các câu sau, câu nào xuất hiện từ trái nghĩa với từ “lỏ nhỏ”?

- A. Sau cơn mưa đầu mùa, đường làng lộ rõ những mô đất mấp mô – những ổ gà, ổ trâu – người ta thường gọi thế.
B. Trên cánh đồng lúa vàng mượt, những chiếc nón trắng nhấp nhô nhịp nhàng theo nhịp cắt.
C. Trong Bohuslän, khoảng 1200 những tảng đá bằng phẳng có chạm khắc tuyệt đẹp.
D. Đường lên núi Côn Luân vô cùng gồ ghề, hiểm trở, những nguy hiểm luôn chờ đón.

Câu 14. Yếu tố Hán Việt “sư” trong câu “Tâm sư học đạo” có nghĩa là gì?

- A. Nhà sư B. Thầy giáo C. Học trò D. Nông dân

Câu 15. Trong đoạn văn, có bao nhiêu phép liên kết câu được sử dụng? Đó là những phép liên kết nào? Liên quay lại nhìn em, thấy An cũng đã ngủ say tay nắm chặt tà áo chị và đầu vẫn dựa vai. Liên nhìn quanh đêm tối, gió đã thoáng lạnh và đom đóm không còn nữa. Chị cúi xuống vục em vào trong hàng, mắt cũng đã riu lại. Chị gài cửa cẩn thận và vụn nhỏ ngọn đèn đặt trên cái quả thuốc sơn đen.

(Hai đứa trẻ, Thạch Lam)

- A. Thay thế từ ngữ
B. Lặp từ ngữ
C. Thay thế từ ngữ và lặp từ ngữ
D. Thay thế từ ngữ và sử dụng từ ngữ tác dụng kết nối

Câu 16. Cầu Hiền Lương bắc qua sông Bến Hải đã trở thành giới tuyến quân sự tạm thời giữa hai miền Nam – Bắc Việt Nam trong giai đoạn nào?

- A. 1945 – 1946. B. 1954 - 1973. C. 1946 - 1954. D. 1954 - 1975.

Câu 17. Nội dung nào không phản ánh đúng ý nghĩa của việc thành lập Đảng Cộng sản Việt Nam?

- A. Chấm dứt thời kì khủng hoảng về giai cấp lãnh đạo cách mạng Việt Nam.
B. Là bước ngoặt vĩ đại trong lịch sử giai cấp công nhân và cách mạng Việt Nam.
C. Hoàn chỉnh chuyển hướng chiến lược, đặt nhiệm vụ giải phóng dân tộc lên hàng đầu.
D. Khẳng định giai cấp vô sản nước ta trưởng thành và đủ sức lãnh đạo cách mạng.

Câu 18. Vì sao Đông Nam Á lại sản xuất được nhiều lúa gạo?

- A. Do người dân chủ yếu làm nông nghiệp.
B. Do lúa gạo là nguồn lương thực chính của người dân.
C. Do có đất phù sa màu mỡ, khí hậu nóng ẩm.
D. Do là nguồn xuất khẩu nông sản chủ yếu.

Câu 19. Điểm khác biệt của dân cư châu Mỹ với châu Âu là:

- A. Dân cư phân bố khá đều trên lãnh thổ.
B. Chỉ có người da trắng sinh sống.
C. Chủ yếu là người bản địa, sinh sống từ lâu đời.
D. Chủ yếu là người nhập cư đến từ châu lục khác.

Câu 20. Em sẽ ứng xử thế nào khi thấy các bạn trong lớp cãi nhau, đánh nhau?

- A. Cố gắng tránh xa, vì không muốn ảnh hưởng đến bản thân mình.
B. Lấy điện thoại ra quay phim, chụp ảnh rồi đăng tải lên mạng xã hội.
C. Cố gắng can ngăn và giúp các bạn đó hoà giải, nhờ giáo viên trợ giúp.
D. Đứng ngoài để xem và lôi kéo các bạn khác cổ vũ cho bên nào mạnh hơn.

Câu 21. Bob wants to take _____ planting as a hobby during his retirement.

- A. on B. into C. up D. turn

Câu 22. Would you mind if I _____ your car?

- A. drove B. drive C. to drive D. driving

Câu 23. We shouldn't cross the street outside the _____.

- A. pavement B. foot lane C. sidewalk D. zebra crossing

Câu 24. Nobody is absent today, _____?

- A. is he B. is she C. are they D. aren't they

Mark the letter A, B, C, D to indicate the correct answers to complete the conversation below:

(a). We should go to the park.	(b). We can use my new computer.
(c). No. It's my stomach.	(d). We have some intriguing math problems

Jack: Hello Anna. Why weren't you at school yesterday?

Anna: Hi Jack, I was feeling ill so I stayed in bed.

Jack: What was the matter? Did you have a sore throat?

Anne: (25) _____.

Jack: I hate being ill.

Anna: So do I! It's horrible. By the way, do we have homework?

Jack: (26) _____. I can come to your house this afternoon if you like.

Anna: This afternoon? Ok! (27) _____.

Jack: Have you got any games that we can play?

Anna: Only a few. I hope you'll enjoy them.

Câu 25. A. (a) B. (b) C. (c) D. (d)

Câu 26. A. (a) B. (b) C. (c) D. (d)

Câu 27. A. (a) B. (b) C. (c) D. (d)

Read the following passage and mark the letter A, B, C or D to indicate the correct word or phrase that best fits each of the numbered blanks.

People have tried for over 2000 years to find a relationship between people's physical features and their character, and even (28) _____ there is a complete lack of evidence for such an idea, it is still popular.

The Ancient Greeks were interested in the idea of human personality although they did not link it with outward appearance. Later, during the Renaissance, some writer (29) _____ that there was a direct connection between a person's character and their face, and they called this new science physiognomy. They thought that the new science would let you know a great deal about a person simply

analysing their face. Kings and princes were interested in the science, as they thought it might (30) _____ them to be better judges of character, and they believed that these new skills would make it more difficult for dishonest courtiers to (31) _____ them in.

(32) _____ the fact that nobody takes these theories seriously nowadays, scientists are still interested in the basic idea. They have shown that there is a link between a person's character and their build.

- Câu 28. A. still B. yet C. since D. though
 Câu 29. A. claimed B. told C. pretended D. related
 Câu 30. A. make B. allow C. let D. learn
 Câu 31. A. take B. put C. set D. bring
 Câu 32. A. Although B. In spite C. Even though D. Despite

The history of coffee

Successful students often do the followings while studying. First, they have an overview before reading. Next, they look for important information and pay greater attention to it (which often needs jumping forward or backward to process information). They also relate important points to one another. Also, they activate and use their *prior* knowledge. When they realize that their understanding is not good, they do not wait to change strategies. Last, they can monitor understanding and take action to correct or "fix up" mistakes in comprehension.

Conversely, students with low academic achievement often demonstrate ineffective study skills. They tend to assume a passive role, in learning and rely on others (e.g., teachers, parents) to monitor their studying, for example, low-achieving students often do not monitor their understanding of content; they may not be aware of the purpose of studying; and they show little evidence of looking back, or employing "fix-up" strategies to fix understanding problems. Students who struggle with learning new information seem to be unaware that they must extent effort beyond simply reading the content to understand and remember it. Children with learning disabilities do not plan and judge the quality of their studying. Their studying may be disorganized. Students with learning problems face challenges with personal organization as well. They often have difficulty keeping track of materials and assignments, following directions, and completing work on time. Unlike good studiers who employ a variety of study skills in a flexible yet purposeful manner, low-achieving students use a restricted range of study skills. They cannot explain why good study strategies are important for learning; and they tend to use the same, often ineffective study approach for all learning tasks, ignoring task content, structure, or difficulty.

- Câu 33. What is the topic of the passage?
 A. Successful and low-academic achieving students.
 B. Successful learners and their learning strategies.
 C. Study skills for high school students.
 D. Effective and ineffective ways of learning.
- Câu 34. The word "prior" in the first paragraph is closest meaning to?
 A. important B. earlier C. forward D. good
- Câu 35. According to the passage, what can be learnt about passive students?
 A. They depend on other people to organize their learning
 B. They are slow in their studying
 C. They monitor their understanding
 D. They know the purpose of studying

- Câu 36. Which of the followings is NOT an evidence of monitoring studying?
 A. Being aware of the purpose of studying
 B. Monitoring their understanding of content
 C. Fixing up mistakes in understanding
 D. Looking at their backs

- Câu 37. In compared with low-achieving students, successful students use _____.
 A. aimless study techniques
 B. various study skills
 C. restricted strategies
 D. inflexible study ways

Mark the letter A, B, C or D to indicate the sentence that is closest in meaning to each of the following sentences.

- Câu 38. It's likely that I'll have left the party before she shows up.
 A. I would like to have left the party before she arrives.
 B. She won't be able to find me at the party when she finally arrives.
 C. By the time she arrives at the party, I may well have already gone.
 D. By the time she arrives at the party, I may well have already gone.
- Câu 39. We couldn't have bought him that jacket because we simply didn't have enough money.
 A. We didn't buy that jacket for him owing to the fact that it was too expensive for us.
 B. Had we had a little more money, we might have considered buying him that jacket.
 C. The price of that jacket was barely affordable for us, so we decided not to buy it for him after all.
 D. As we just didn't have the necessary amount of money, it was impossible for us to buy him that jacket.
- Câu 40. Unless the problem is corrected immediately, it will only continue to get worse.
 A. Although the crisis has been addressed, things have not begun to get better as yet.
 B. The situation is bound to deteriorate even more if it is not rectified without delay.
 C. We're only causing more problems by allowing the crisis to grow and get out of hand.
 D. The fact that the problem seems to be getting worse suggests that it was identified incorrectly.

II. TỰ LUẬN (50 phút)

PHẦN 1: PHẦN ĐÁNH GIÁ NĂNG LỰC TOÁN

Người ta chuyển gạo từ kho A sang kho B. Đợt một chuyển $\frac{1}{4}$ số gạo trong kho A và thêm 12 tấn. Đợt hai chuyển $\frac{3}{5}$ số gạo còn lại và thêm 18 tấn. Đợt ba chuyển $\frac{2}{3}$ số gạo còn lại sau hai đợt và thêm 30 tấn nữa thì kho A vừa hết. Lúc này, kho B có 800 tấn gạo. Hỏi trước khi chuyển mỗi kho có bao nhiêu tấn gạo?

PHẦN 2: PHẦN ĐÁNH GIÁ NĂNG LỰC TIẾNG VIỆT

Những con nhạn bay thành đàn trên trời cao, như một đám mây trắng mỏng lướt qua thôn làng, gieo xuống những tiếng kêu mát lạnh, trong veo sương sớm, khiến tim tôi vang lên điệu dàng những câu thơ không nhớ đã thuộc tự bao giờ. (Miền quê thơ ấu, Nguyễn Trọng Tạo)

Những câu văn trên vẽ nên khung cảnh một vùng quê đầy mơ mộng, gieo vào lòng người những cảm xúc bồi hồi về mảnh đất quê hương thân thương. Hãy miêu tả cảnh bình minh trên quê hương em bằng một đoạn văn khoảng 100 từ.

PHẦN 3: PHẦN ĐÁNH GIÁ NĂNG LỰC TIẾNG ANH

Bài 1. Look at the picture below and write a paragraph to describe it in about 80 words.



Bài 2. In about 100 words, write a paragraph about 2 things you would do if you were to be Superman/Superwoman.

ĐỀ SỐ 8

I. TRẮC NGHIỆM (50 phút)

- Câu 1. Cô Bảo tiết kiệm 10% số tiền cô ấy kiếm được. Nếu thu nhập của cô Bảo tăng thêm 15% thì số tiền tiết kiệm được hằng tháng sẽ tăng 240 000 đồng. Thu nhập hằng tháng của cô Bảo là
A. 12 triệu đồng B. 14 triệu đồng C. 16 triệu đồng D. 18 triệu đồng
- Câu 2. Một học sinh khi thực hiện phép nhân với 207 đã quên viết chữ số 0 của số 207 nên kết quả giảm đi 6120 đơn vị. Kết quả đúng của phép nhân là
A. 918 B. 1863 C. 7038 D. 12240
- Câu 3. Bạn Thúy An viết liên tiếp nhóm chữ NGOAI NGU thành dãy NGOAI NGU NGOAI NGU NGOAI NGU... Chữ cái thứ 2023 của dãy là
A. N B. G C. U D. A.
- Câu 4. Một tổ công nhân mỗi ngày làm 8 giờ thì sau 2 tuần sẽ xong công việc. Nếu gấp đôi số người trong tổ đó nhưng mỗi người chỉ làm 7 giờ thì tổ công nhân đó sẽ hoàn thành công việc sau số ngày là
A. 8 ngày B. 14 ngày C. 16 ngày D. 18 ngày
- Câu 5. Sân trường UMS là một hình chữ nhật có chu vi 160m. Nếu tăng chiều rộng lên 10m và giảm chiều dài đi 10m thì sân trường thành hình vuông. Diện tích sân trường là
A. $1600 m^2$ B. $1500 m^2$ C. $1400 m^2$ D. $1300 m^2$
- Câu 6. Trong các đáp án sau, đáp án nào đúng?
A. Cơ thể người không dẫn điện.
B. Vàng là chất dẫn điện tốt.
C. Nước sinh hoạt không dẫn điện.
D. Đồng là chất dẫn điện kém.
- Câu 7. Để hạn chế rác thải và bảo vệ môi trường, ta **không** nên
A. sử dụng cốc và hộp nhựa dùng một lần.
B. phân loại và tái chế rác thải.
C. sử dụng giỏ đựng khi đi chợ thay túi nilong.
D. hạn chế sử dụng các vật liệu khó phân hủy.
- Câu 8. Chọn cách làm đúng trong các cách làm sau
A. Cho thức ăn còn nóng vào tủ lạnh để lưu trữ.
B. Rót nước vừa đun sôi vào bình nước bằng nhựa.
C. Vừa sạc điện thoại vừa chơi game trong thời gian dài.
D. Dùng đĩa sứ, không có hoa văn khi hâm nóng thức ăn bằng lò vi sóng.
- Câu 9. Bệnh suy dinh dưỡng làm cho cơ thể phát triển chậm, cơ bắp yếu ớt, bụng phình to, tóc mọc thưa thớt. Nguyên nhân gây ra bệnh là do
A. cơ thể thiếu chất khoáng
B. cơ thể thiếu tinh bột
C. cơ thể thiếu chất đạm
D. cơ thể thiếu chất béo
- Câu 10. Loài chim nào dưới đây **không** có tập tính ấp trứng, nuôi con?
A. Chào mào B. Tu hú C. Đà điểu D. Cánh cụt

- Câu 11. Câu tục ngữ nào dưới đây **không** nói về ý chí, nghị lực?
 A. Có công mài sắt, có ngày nên kim
 B. Lửa thử vàng, gian nan thử sức
 C. Chớ thấy sóng cả mà ngã tay chèo
 D. Giấy rách phải giữ lấy lề
- Câu 12. Xác định mối quan hệ về nghĩa giữa hai từ “chín” được gạch chân sau đây:
 • *Những vạt nương màu mật*
Lúa chín ngập lòng thung
 (Trước cổng trời, Nguyễn Đình Ảnh)
 • Tài năng của anh ấy đang ở độ chín.
 A. Từ đồng nghĩa B. Từ trái nghĩa C. Từ đồng âm D. Từ nhiều nghĩa
- Câu 13. Trong đoạn văn dưới đây có bao nhiêu câu ghép?
Bên ngoài, gió vẫn thổi thoàng rít lên. Đồng thời, một loạt tiếng rào rào ướt át nổi dậy rồi biến mất trong hoang vắng. Những âm thanh lạnh lẽo ấy càng gọi ra trong trí tưởng tượng của tôi những lùm cây cỏ xanh mềm lá xô cuốn nhau để thoát khỏi mặt lòng bùn và những khóm cải hoa, thìa là tôi bởi vì đã vùng vẫy để cũng như cố thoát khỏi khoảng vườn chật hẹp, gai góc và ứ bùn cống rãnh kia.
 (Những ngày thơ ấu, Nguyễn Hồng)
 A. Không có B. 01 câu ghép C. 02 câu ghép D. 03 câu ghép
- Câu 14. Nối từ ở cột A với nghĩa tương ứng ở cột B:
- | | |
|----------------|---|
| (1) rực rỡ | (a) có độ sáng mạnh và rộng, làm cho lóa mắt |
| (2) lấp lánh | (b) có ánh sáng phản chiếu không liên tục nhưng đều đặn |
| (3) bập bùng | (c) khi lên cao, khi xuống thấp một cách nhịp nhàng |
| (4) chói chang | (d) tươi sáng, đẹp đẽ và nổi bật |
- A. (1)-d, (2)-a, (3)-b, (4)-c
 B. (1)-d, (2)-b, (3)-c, (4)-a
 C. (1)-a, (2)-b, (3)-c, (4)-d
 D. (1)-b, (2)-a, (3)-d, (4)-c
- Câu 15. Nhóm nào chỉ gồm các từ ghép phân loại?
 A. Trời đất, bánh trái, học hành, chạy nhảy
 B. Bãi biển, bờ sông, bờ đê, kênh mương
 C. Ngọt mát, ngọt lịm, thơm lừng, ngòn ngọt
 D. Xanh lam, đỏ tươi, vàng hoe, trắng tinh
- Câu 16. Phong trào cách mạng đầu tiên được Đảng Cộng sản Việt Nam lãnh đạo ngay sau khi thành lập là:
 A. Cách mạng Tháng Tám.
 B. Biểu tình chiếm Phủ Khâm sai.
 C. Xô Viết Nghệ Tĩnh.
 D. Cao trào kháng Nhật cứu nước.
- Câu 17. Ngày 25/4/1976 diễn ra sự kiện gì?
 A. Lễ kí kết hiệp định Pa-ri.
 B. Chiến dịch Hồ Chí Minh toàn thắng.
 C. Tổng tuyển cử bầu Quốc hội chung được tổ chức trong cả nước.
 D. Quốc hội nước Việt Nam thống nhất họp tại Hà Nội.

- Câu 18. Trong một năm nước ta có những mùa gió chính nào?
 A. Mùa gió Đông, còn mùa kia có gió Tây Nam hoặc Đông Nam.
 B. Mùa gió Tây Bắc, còn mùa kia có gió Tây Nam hoặc Đông Nam.
 C. Mùa gió Đông Bắc, còn mùa kia có gió Tây Nam hoặc Đông Nam.
 D. Mùa gió Tây, còn mùa kia có gió Tây Nam hoặc Đông Nam.
- Câu 19. Ở miền Bắc, ứng với thời kì gió mùa Đông Bắc là kiểu thời tiết nào sau đây?
 A. Không mưa, ban đêm dịu mát.
 B. Lạnh và ít mưa.
 C. Se lạnh và khô hanh.
 D. Mưa phùn ẩm ướt.
- Câu 20. Trong các ngày lễ dưới đây, ngày nào gắn với truyền thống nhớ ơn tổ tiên của người Việt Nam?
 A. Ngày Giỗ tổ Hùng Vương (10 tháng 3 Âm lịch).
 B. Ngày Thương binh liệt sĩ (27 tháng 7).
 C. Ngày Tết Đoan ngọ (5 tháng 5 Âm lịch).
 D. Ngày Nhà giáo Việt Nam (20 tháng 11).
- Mark the letter A, B, C, or D to indicate the correct answer to each of the following sentences.**
- Câu 21. It _____ rain this evening. Why don't you take an umbrella?
 A. had better B. might C. must D. could be
- Câu 22. I ran _____ an interesting article about fashion while I was reading the newspaper.
 A. across B. after C. away D. out
- Câu 23. Our hotel was _____ all the others in the town.
 A. more cheap than B. as cheaper than C. cheaper than D. more cheaper than
- Câu 24. Her eyes were red and puffy _____ she has been crying a lot last night.
 A. even if B. since C. because of D. despite

Mark the letter A, B, C, or D to indicate the correct answers to complete the following dialogue.

(a). I'm afraid it is a terrible idea	(b). But I'm only allowed to invite five people.
(c). You were miles away!	(d). Well it seems like the list is short.

Gemma: Oh, hi Makayla. How are you?

Makayla: Fine, thanks. (25) _____. What's up?

Gemma: Ah, nothing ... I'm trying to decide who to invite to a barbecue.

Makayla: That sounds interesting. Am I invited?

Gemma: Yeah, of course! My parents are having a barbecue on Saturday and they said I can invite some friends... (26) _____.

Makayla: Ah, OK. What are you thinking? Who's on your list?

Gemma: Well ... I've got you and Jack, obviously ... and Leah ... so that's three. Sam can't come so I can invite two more, but I'm not sure who to ask.

Makayla: (27) _____. Why don't you ask Marco?

Gemma: Marco? The new guy? I don't know ... I don't know him very well ...

Makayla: He's really nice, honestly ... and so funny!

Câu 25. A. (a) B. (b) C. (c) D. (d)

Câu 26. A. (a) B. (b) C. (c) D. (d)

Câu 27. A. (a) B. (b) C. (c) D. (d)

Read the following passage and mark the letter A, B, C or D to indicate the correct word or phrase that best fits each of the numbered blanks.

Approximately 350 million people speak English as their first (28) _____. About the same number use it (29) _____ a second language. It is the language (30) _____ aviation, international sport and world trade. 75% of the world's mail is in English, 60% of the world's radio stations broadcast in English, and more than half of the world's newspapers are (31) _____ in English. It is an official language in 44 countries. In (32) _____ others, it is the language of business, commerce and technology. There are many varieties of English, but Scottish, Australian, Indian and Jamaican speakers of English, in spite of the differences in pronunciation, structure and vocabulary, would recognize that they are all speaking the same basic language.

- Câu 28. A. language B. languages C. linguist D. linguistics
 Câu 29. A. of B. with C. as D. in
 Câu 30. A. on B. to C. from D. of
 Câu 31. A. spoken B. printed C. sold D. taken
 Câu 32. A. an B. more C. many D. much

Read the following passage and mark the letter A, B, C, or D to indicate the correct answer to each of the questions.

An unusual job!

Have you seen a football match recently? If you have, I'm sure that you heard lots of comments about the referee as well as about the players! Referees have a very difficult job. They have to make quick and important decisions in the middle of a fast-moving game. And, of course, there are thousands of people shouting at them too. The crowd is never happy when the ref sends off their favourite player. Also, in football today there still isn't the same technology as there is in other sports, like tennis. The job can get even more difficult when you're a woman who is refereeing a men's match!

There is no reason why there should not be the same number of male and female referees in the sport today. However, the number of female refs is still very low – particularly at the highest levels of professional football. This is something that one woman, Pat Dunn, who died in 1999, would have been very sad about.

Pat was the first woman in the UK to referee a men's football match but she wasn't allowed to do this for a long time. Pat was a strong supporter of women's rights in sport and became President of the Ladies' Football Association in 1969. Then she decided to train to be a referee. For a long time the Football Association refused to give her a certificate although she had passed the exams. But Pat continued fighting and she finally got permission in 1976. The next month she became famous when she refereed her first official FA game. Pat became a very good and successful referee and even saved a footballer's life. She helped him when he was injured during a match!

Today there are some famous female referees, like Bibiana Steinhaus from Germany who has just refereed the final of the Women's Football World Cup. Bibiana decided to become a referee at the age of 16 and later was the first female referee in the German men's professional league. But there are only a few like her.

Football is still mainly a men's game – both for players and referees. But for how long? Will we see more women referees in the future? We'd like to know what YOU think. So, please go online and leave a comment on our website. We'll print the most interesting ones in the magazine next week.

- Câu 33. Referees have a difficult job because _____.
 A. they need to run fast. C. they have to think quickly.
 B. the players shout at them. D. they need to train hard.

- Câu 34. In the sport of tennis _____.
 A. they use more technology.
 B. there are more women players.
 C. there are bigger crowds.
 D. there are complicated rules.
- Câu 35. Who was Pat Dunn?
 A. A woman football player.
 B. A nurse at football matches.
 C. An important member of the Ladies' Football Association.
 D. A referee.
- Câu 36. When was the first female referee in the UK appointed?
 A. 1969 B. 1976 C. 1999 D. 1989
- Câu 37. Bibiana Steinha _____.
 A. plays in the top women's league.
 B. played tennis when she was young.
 C. recently refereed a men's football final.
 D. wanted to be a referee when she was a teenager.

Mark the letter A, B, C or D to indicate the sentence that is closest in meaning to each of the following sentences.

- Câu 38. You could not have made a very good impression on them.
 A. You seem to have impressed them unfavourably.
 B. It's impossible that the effect you made on them was particularly positive.
 C. Something appears to have made them think you are unsuitable.
 D. You should have tried harder to make them think well of you.
- Câu 39. Turkey is capable of producing all of the food that it consumes every day.
 A. Turkey has capacity to be self-sufficient in food.
 B. Every day the population of Turkey consumes as much food as it produced.
 C. Turkey should make greater effort towards self-sufficient in its requirements.
 D. Turkey should produce more food for domestic consumption.
- Câu 40. Did you happen to run into George last week?
 A. Was it a week ago that you last saw George?
 B. Where do you think George was all last week?
 C. Did you, by any chance, see George last week?
 D. Have you got any idea what happened to George last week?

II. TỰ LUẬN (50 phút)

PHẦN 1: PHẦN ĐÁNH GIÁ NĂNG LỰC TOÁN

Một lớp học có $\frac{3}{7}$ số học sinh là nam. Nếu 3 học sinh nam chuyển sang lớp khác thì lúc này số học sinh nam bằng $\frac{5}{8}$ số học sinh nữ. Hỏi lớp có tất cả bao nhiêu học sinh?

PHẦN 2: PHẦN ĐÁNH GIÁ NĂNG LỰC TIẾNG VIỆT


*Dưới gốc đa già, trong vũng bóng
 Nằm mát, đàn trâu ngẫm nghĩ nhai.
 Ve ve rung cánh, ruồi say nắng;
 Gà gáy trong thôn những tiếng dài.*

(Trưa hè, Bằng Bá Lân)

Dưới khung thiên của trưa hè, tác giả Bằng Bá Lân đã phác hoạ một bức tranh bình yên chốn thôn quê bình dị với những hình ảnh rất đời thân thuộc, gần gũi. Bằng những quan sát và trải nghiệm của bản thân, em hãy viết một đoạn văn có dung lượng khoảng 100 từ miêu tả vẻ đẹp của một làng quê vào một buổi trưa hè.

PHẦN 3: PHẦN ĐÁNH GIÁ NĂNG LỰC TIẾNG ANH

Bài 1: Look at the following picture and write a paragraph to describe it in about 80 words.



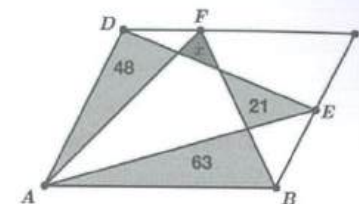
Bài 2: In about 100 words, write about 2 people you love the most.

ĐỀ SỐ 9

I. TRẮC NGHIỆM (50 phút)

Câu 1. Cho dãy các số tự nhiên: 9, 18, 27, 36, 45,... Trong các số dưới đây, số nào thuộc dãy số trên?
A. 2223 B. 2324 C. 2425 D. 2526.

Câu 2. Trong hình bình hành bên, các số thể hiện diện tích của các phần với đơn vị cm^2 . Diện tích x ở trong hình bằng



- A. $4 cm^2$ B. $5 cm^2$
C. $6 cm^2$ D. $7 cm^2$

Câu 3. Biết trung bình cộng của hai số A và B là 29, trung bình cộng của hai số B và C là 25, trung bình cộng của hai số C và D là 27. Trung bình cộng của hai số A và D là
A. 31 B. 27 C. 25 D. 23

Câu 4. Vào ngày sinh nhật của Lisa, các album của BLACKPINK được giảm giá 30%. Nhật Mai là một fan chân chính của BLACKPINK nên cô ấy có thể thành viên Platinum, do đó được tiếp tục giảm giá 20% trên giá đã giảm nhân dịp sinh nhật Lisa. Hỏi Nhật Mai được giảm giá bao nhiêu phần trăm so với giá gốc khi mua album của BLACKPINK?
A. 25% B. 44% C. 56% D. 60%

Câu 5. Một cano xuôi dòng từ bến A lúc 8 giờ 15 phút. Cano nghỉ lại tại bến B 1 giờ 30 phút, rồi từ bến B trở về tới bến A lúc 15 giờ 45 phút. Biết rằng vận tốc thực của cano là 24km/giờ, vận tốc dòng nước là 4km/giờ, khoảng cách giữa bến A và bến B là
A. 98 km B. 70 km C. 60 km D. 50 km

Câu 6. Bệnh nào dưới đây có tác nhân gây bệnh **không** phải là virus?
A. Sốt xuất huyết B. Sốt rét C. Viêm não D. HIV

Câu 7. Các bệnh gây ra do sử dụng nguồn nước bị ô nhiễm là
A. đột quỵ, cao huyết áp, xuất huyết não.
B. tả, thương hàn, tiêu chảy.
C. tiểu đường, viêm ruột thừa, quáng gà.
D. viêm phổi, lao, cúm.

Câu 8. Loài động vật nào dưới đây có hình thức sinh sản đẻ trứng?
A. Cá voi B. Hải cẩu C. Cá heo D. Cá mập

Câu 9. Gang và thép là hợp kim của
A. sắt và các-bon B. đồng và các-bon C. nhôm và các-bon D. bạc và các-bon

Câu 10. Trường hợp nào sau đây **không** làm nguồn nước bị ô nhiễm?
A. Tăng cường bón phân hóa học để tăng năng suất cây trồng.
B. Sử dụng bom, mìn để đánh bắt thủy, hải sản.
C. Làm ruộng bậc thang trên các sườn núi dốc.
D. Khí thải từ nhà máy, phương tiện giao thông.

Câu 11. Xác định số từ láy có trong câu văn sau:
Bà cẩn mẫn chăm sóc ruộng mùa cho tới ngày cây lớn cao ngang ngực và duyên dáng trở những bông hoa trắng li ti dịu dàng.

(Hương mùa già, Minh Minh)

- A. 1 từ láy B. 2 từ láy C. 3 từ láy D. 4 từ láy

Câu 12. Xác định vai trò của dấu phẩy đứng ở vị trí số (2) trong câu:
Trong bầu không khí thanh tĩnh tràn ngập thôn quê, (1) Để Còm nghe văng vẳng dưới trăng tiếng mài gươm của hiệp sĩ Bọ Ngựa, (2) tiếng thờ dài của gã giang hồ Xén Tóc...

- Câu 28. A. suffer B. under C. get D. endure
 Câu 29. A. consequence B. impact C. problem D. effects
 Câu 30. A. to retaining B. retain C. to retain D. retaining
 Câu 31. A. span B. term C. length D. duration
 Câu 32. A. Although B. However C. Interestingly D. Besides

The Butterfly Sanctuary

Welcome to the Butterfly Sanctuary, a magical place where you can experience the beauty of nature and observe these stunning creatures up close. Located in the heart of the rainforest, the Butterfly Sanctuary is home to over 200 species of butterflies, all of which are native to the area.

At the Sanctuary, we offer guided tours throughout the day, led by expert naturalists who will teach you about the lifecycle of these fascinating insects, as well as their behavior and habitat. You'll get the chance to see butterflies in all stages of their life cycle, from egg to caterpillar to chrysalis to adult. Our naturalists will explain how each stage of development is unique and important to the survival of the species.

In addition to the tours, we also offer a range of interactive exhibits where you can learn more about butterflies and their role in the ecosystem. You can even witness the incredible process of metamorphosis in our special viewing chamber.

The Butterfly Sanctuary is a non-profit organization that relies on the support of visitors like you to continue its work. While there is no mandatory admission fee, donations are greatly appreciated and help us to maintain the Sanctuary and support conservation efforts in the surrounding rainforest. So come and join us at the Butterfly Sanctuary, where you can witness the wonder of these beautiful creatures and learn about the importance of conservation in preserving the natural world.

- Câu 33. How many species of butterflies can be found at the Butterfly Sanctuary?
 A. Over 100 B. Over 200 C. Over 300 D. Over 400
- Câu 34. Why does the Butterfly Sanctuary rely on donations from visitors?
 A. To fund scientific research on butterflies.
 B. To pay for the salaries of the naturalists.
 C. To maintain the Sanctuary and support conservation efforts.
 D. To purchase new butterflies for the exhibits.
- Câu 35. What can visitors witness in the special viewing chamber?
 A. The process of metamorphosis
 B. Butterfly mating rituals
 C. Butterfly migration patterns
 D. The behavior of butterfly predators
- Câu 36. What does the word "non-profit" mean in the sentence "The Butterfly Sanctuary is a non-profit organization"?
 A. A company that makes a lot of money
 B. A company that doesn't make any money
 C. A company that sells expensive products
 D. A company that doesn't pay taxes
- Câu 37. What is the message the author is trying to convey about conservation efforts?
 A. That conservation efforts are unnecessary.
 B. That conservation efforts are the sole responsibility of organizations like the Butterfly Sanctuary.
 C. That conservation efforts are important for preserving the natural world.
 D. That conservation efforts are too expensive and difficult to implement.

- Câu 38. The company will need to cut costs in order to survive.
 A. If the company doesn't increase its expenses, it will go bankrupt.
 B. The company can survive without cutting costs.
 C. If the company cuts costs, it will become more profitable.
 D. The company's financial situation will improve without cutting costs.
- Câu 39. I didn't expect to see so many people at the concert.
 A. I anticipated that the concert wouldn't be sold out.
 B. When I got to the concert, I saw that it was completely empty.
 C. I knew that the concert would be crowded.
 D. The concert was full of people I knew.
- Câu 40. If we had left earlier, we wouldn't have missed our flight.
 A. Our flight would have been delayed even if we had left earlier.
 B. We didn't miss our flight because we left early enough.
 C. If we had left earlier, we would have caught our flight.
 D. Leaving early wouldn't have made a difference to our flight.

II. TỰ LUẬN (50 phút)

PHẦN 1: PHẦN ĐÁNH GIÁ NĂNG LỰC TOÁN

Một đơn vị bộ đội chuẩn bị đủ gạo cho 600 người ăn trong 30 ngày, nhưng sau 4 ngày có một số người mới đến thêm nên số gạo còn lại chỉ đủ ăn trong 24 ngày. Giả sử sức ăn của mỗi người là như nhau, hỏi số người đến thêm là bao nhiêu?

PHẦN 2: PHẦN ĐÁNH GIÁ NĂNG LỰC TIẾNG VIỆT

Nhà văn Tô Hoài đã miêu tả cơn mưa thật ấn tượng:

Mưa sầm sập, giọt ngã, giọt bay, bụi nước toả trắng ngần. Trong nhà âm sầm hắt đi. Mùi nước mưa mới ẩm, ngọt ngào, ngai ngái. Mùi man mác, xa lạ của những trận mưa đầu mùa đem về. Mưa rều rều trên sân, gõ đồm độp trên phen nứa, mái rạ, đập lũng tung, liên miên vào tàu lá chuối. Tiếng giọt tranh đồ ồ ồ, xối lên những rãnh nước sâu... Mảnh sân đất đã ngập mấp mé. Nước chảy đò ngòm bốn bề, cuộn cuộn trong các ngách rãnh quanh lối xuống chuôm...

Bằng quan sát, trải nghiệm của mình, em hãy viết một bài văn miêu tả một cơn mưa mùa thu (hoặc mùa hè) nơi em đang sinh sống (ở thành phố hoặc làng quê)

PHẦN 3: PHẦN ĐÁNH GIÁ NĂNG LỰC TIẾNG ANH

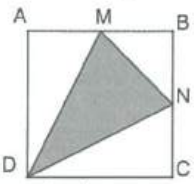
- Bài 1: Look at the picture below and write a paragraph to describe it in about 80 words.



- Bài 2: In 100 words, write about 2 things you would do if you travelled abroad.

ĐỀ SỐ 10

A. TRẮC NGHIỆM (50 phút)

- Câu 1. 15,26 lít sữa được chia đều cho một số em nhỏ trong lớp Lá. Nếu mỗi em nhỏ nhận được 350ml sữa và còn thừa lại 0,56 lít sữa thì lớp Lá có số là
A. 42 em B. 40 em C. 38 em D. 36 em
- Câu 2. Hai vòi nước cùng chảy vào một cái bể cạn thì sau 10 giờ sẽ đầy bể. Người ta mở vòi thứ nhất chảy trong 6 giờ thì được $\frac{1}{2}$ bể. Sau đó, người ta khóa vòi thứ nhất và mở vòi thứ hai. Thời gian vòi thứ hai tiếp tục chảy đến khi đầy bể là
A. 15 giờ B. 30 giờ C. 45 giờ D. 60 giờ
- Câu 3. Khi thực hiện phép cộng hai số thập phân, Hương đã viết nhầm dấu phẩy của một số hạng sang bên phải một chữ số, do đó dẫn đến kết quả sai là 2490,78. Biết tổng đúng là 542,1, vậy hiệu của hai số ban đầu là
A. 108,06 B. 108,6 C. 109,06 D. 109,6
- Câu 4. Cho hình vuông ABCD có cạnh 20 cm như hình bên. Biết rằng AM = MB và BN = NC, diện tích tam giác MND là
A. 50 cm² B. 100 cm²
C. 125 cm² D. 150 cm²
- 
- Câu 5. Một bể cá hình lập phương có cạnh 25 cm đã sử dụng 60% thể tích bể để chứa nước. Một lượng nước bị bốc hơi làm mực nước trong bể giảm đi 70 mm. Thể tích lượng nước còn lại trong bể là
A. 11 250 cm³ B. 7 000 cm³ C. 6 750 cm³ D. 5 000 cm³
- Câu 6. Đặt một chiếc chuông đang kêu vào túi ni lông và bịt kín, sau đó nhúng chìm trong một bình đựng đầy nước. Người đứng bên ngoài, không áp tai vào thành bình còn nghe thấy âm thanh phát ra từ chiếc chuông không? Nếu có thì âm thanh đã truyền qua những môi trường nào?
A. Không nghe thấy vì âm thanh không truyền qua môi trường chất lỏng.
B. Nghe thấy, âm thanh truyền qua môi trường chất rắn và lỏng.
C. Nghe thấy, âm thanh truyền qua môi trường chất rắn, chất lỏng và chất khí.
D. Không nghe thấy vì âm thanh cùng một lúc không thể truyền qua nhiều môi trường.
- Câu 7. Cách làm nào sau đây **không** gây hại cho mắt?
A. Ngồi đọc sách, bóng đèn ở phía sau lưng.
B. Nhìn trực tiếp vào mặt trời mà không cần đeo kính bảo hộ.
C. Phóng tầm mắt ra xa sau một thời gian ngồi học bài.
D. Đọc tài liệu trên máy tính trong nhiều giờ liền.
- Câu 8. Chất khí nào là sản phẩm thải của các loài động vật nhưng lại là nguyên liệu thiết yếu với các loài thực vật?
A. Khí oxy B. Khí nitơ C. Khí cacbonic D. Khí hidro
- Câu 9. Cơ quan nào dưới đây **không** tham gia vào quá trình biến đổi thức ăn, nước uống thành các chất dinh dưỡng, ngấm vào máu đi nuôi cơ thể?
A. Gan B. Ruột non C. Miệng D. Yết hầu
- Câu 10. Biện pháp phát quang bụi rậm quanh khu vực đang sống giúp diệt muỗi vì
A. tiêu diệt môi trường đẻ trứng ưa thích của muỗi.
B. loại bỏ nguồn thức ăn của muỗi đực.
C. diệt trừ giai đoạn sống trung gian của muỗi.
D. hạn chế nguồn sống của muỗi cái.

- Câu 11. Xác định cách liên kết trong hai câu văn sau:
(1) Sáng hôm sau, tôi trèo lên ngọn hoa cỏ xước, ngắm địa thế chỗ chúng tôi bạt phong vào.
(2) Đó là khoảng bãi rộng, lầy lội, bùm tùm toàn giồng cỏ nước.
(Đế Mèn phiêu lưu kí, Tô Hoài)

- A. Lặp từ ngữ và dùng từ nổi
B. Dùng từ nổi và thay thế từ ngữ
C. Thay thế từ ngữ và lặp từ ngữ
D. Sử dụng phép nhân hóa
- Câu 12. Xác định mối quan hệ về nghĩa giữa hai từ “huệ” được gạch chân trong bài thơ sau:

Hoa huệ
Trong trắng mà trang nghiêm
Hương ngát dài ngày đêm
Nhớ hoa giàu ân huệ
Gọi xuân về nắng lên.

(Hồ Khai Đại)

- A. Từ đồng nghĩa B. Từ trái nghĩa C. Từ đồng âm D. Từ nhiều nghĩa
- Câu 13. Lựa chọn phương án thể hiện đúng sự kết hợp giữa từ ngữ ở cột A và từ ngữ ở cột B thành những câu tục ngữ quen thuộc

(1) Tắc đất	(a) gói vàng
(2) Người sống	(b) tắc vàng
(3) Lời nói	(c) là vàng
(4) Im lặng	(d) đồng vàng

- A. (1)-b, (2)-c, (3)-a, (4)-d
B. (1)-b, (2)-d, (3)-a, (4)-c
C. (1)-c, (2)-d, (3)-a, (4)-b
D. (1)-c, (2)-a, (3)-d, (4)-b
- Câu 14. Hãy xác định câu (2) trong đoạn văn sau là kiểu câu gì, được sử dụng với mục đích gì?
Hùng nói: (1) "Theo tớ, quý nhất là lúa gạo. (2) Các cậu có thấy ai không ăn mà sống được không?" (Cái gì quý nhất?, Trịnh Mạnh)
A. Câu kể nói về giá trị của lúa gạo
B. Câu hỏi để khẳng định không gì quý bằng lúa gạo
C. Câu cầu khiến mong mọi người quý trọng lúa gạo
D. Câu cảm để ngợi ca lúa gạo
- Câu 15. Câu nào có từ “hay” là quan hệ từ?
A. Những ngọn cỏ còn ướt sương đêm hay là nước mưa luôn mang về đẹp thật trong trẻo.
B. Tôi hay chơi đá bóng vào buổi chiều.
C. Bây giờ, anh ấy mới hay tin tuyến xe đó mới mở.
D. Minh Quân hát hay như ca sĩ.
- Câu 16. Mở đầu Tuyên ngôn độc lập, Chủ tịch Hồ Chí Minh đã trích dẫn bản Tuyên ngôn Độc lập của nước Mĩ với nội dung “Tất cả mọi người đều sinh ra có quyền bình đẳng. Tạo hóa cho họ những quyền không ai có thể xâm phạm được; trong những quyền ấy, có quyền được (a)..., quyền (b)... và quyền (c)....”. Các quyền tương ứng còn thiếu là:
A. (a) sống – (b) bình đẳng – (c) mưu cầu hạnh phúc.
B. (a) tự do – (b) bình đẳng – (c) hạnh phúc.
C. (a) độc lập – (b) tự do – (c) hạnh phúc.
D. (a) sống – (b) tự do – (c) mưu cầu hạnh phúc.

- Câu 17. Sau Cách mạng tháng Tám 1945, Đảng ta nhận định kẻ thù nào là nguy hiểm nhất?
A. Giặc ngoại xâm. B. Giặc đói. C. Giặc dốt. D. Nội phản.
- Câu 18. Địa hình Lào và Cam-pu-chia có sự khác nhau là:
A. Cam-pu-chia chủ yếu là đồng bằng và cao nguyên, Lào địa hình chủ yếu là núi.
B. Địa hình Cam-pu-chia chủ yếu là cao nguyên, Lào chủ yếu là đồng bằng.
C. Địa hình Cam-pu-chia chủ yếu là núi, Lào chủ yếu là đồng bằng.
D. Cam-pu-chia chủ yếu là đồng bằng, Lào địa hình phần lớn là núi và cao nguyên.
- Câu 19. Vì sao dân cư châu Á lại tập trung đông đúc tại các đồng bằng châu thổ?
A. Do đồng bằng địa hình bằng phẳng, đất đai màu mỡ.
B. Do châu Á có nhiều đồng bằng hơn đồi núi.
C. Do đồng bằng có nhiều tài nguyên khoáng sản.
D. Do ở đồng bằng sông có nhiều cá, tôm.
- Câu 20. Em sẽ làm gì trong trường hợp có hòa hoãn tại khu chung cư của gia đình đình mà em đang mắc kẹt trong nhà?
A. Em khóc âm lên để báo cho mọi người biết nhà có cháy rồi ngay lập tức trốn vào nhà vệ sinh
B. Em bịt khăn ướt lên mũi, miệng, sau đó, bò sát mặt đất tìm đường di chuyển ra ngoài để tránh bị ngạt
C. Em mở cửa sổ và nhẩy qua cửa sổ để ra ngoài khi không có bất kỳ thiết bị bảo vệ nào
D. Em dùng tất cả mọi thứ xung quanh chặn cửa nhà để lửa không lan đến nhà mình

Mark the letter A, B, C, or D to indicate the correct answer to each of the following sentences.

- Câu 21. They are going to _____.
A. have their rooms repaint..
B. have their rooms be repainting.
C. get their rooms to repaint.
D. get their rooms repainted.
- Câu 22. I prefer playing outdoor sports _____ indoor activities.
A. than do B. to do C. than doing D. to doing
- Câu 23. It is not worth _____ that computer. You had better _____ a new one.
A. to repair/to buy B. repairing/buy C. repairing/buying D. repair/buy
- Câu 24. He said that Linda and John _____ married _____.
A. were getting / tomorrow.
B. are getting / the next day.
C. were getting / the next day.
D. will getting / the day after.

Mark the letter A, B, C, or D to indicate the correct answers to complete the following dialogue.

(a). Have you tried going to a specialized shoe store?	(b). Do you have any recommendations?
(c). You should buy a new pair of socks.	(d). I recommend gradually wearing them for short periods of time to avoid blisters or discomfort.

Tom: Hey Andy, nice shoes! Where did you get them?

Andy: Thanks, Tom. I picked them up at a shoe store downtown. I've been in the market for a new pair for a while now.

Tom: They look really comfortable. Do they fit well?

Andy: Yeah, they're a great fit. I made sure to try them on in the store before buying them.

Tom: I have a hard time finding shoes that fit me well. Any tips?

Andy: (25) _____ They usually have a wider range of sizes and styles to choose from.

Tom: That's a good idea. (26) _____

Andy: There's a store a few blocks away that carries a lot of high-quality brands. I can send you the name and address if you want.

Tom: Yeah, that would be great. And what about breaking them in? Any advice on that?

Andy: Yeah, (27) _____ And make sure to wear socks that are the right thickness for the shoes.

Tom: Thanks for the advice, Andy. I'll definitely try those things out.

Câu 25. A. (a) B. (b) C. (c) D. (d)

Câu 26. A. (a) B. (b) C. (c) D. (d)

Câu 27. A. (a) B. (b) C. (c) D. (d)

Read the following passage and mark the letter A, B, C or D to indicate the correct word or phrase that best fits each of the numbered blanks.

Schooling is a vital component of a person's educational journey, providing individuals with the necessary knowledge and skills to succeed in life, both personally and professionally. Students learn a (28) _____ range of subjects, develop important life skills, and build (29) _____ with others. In addition, schooling provides access to a diverse range of opportunities, including extracurricular activities, resources such as libraries and computer labs, and specialized programs for students (30) _____ need additional support. (31) _____ schooling can be challenging, schools must provide the necessary support and resources to help all students succeed. Overall, schooling (32) _____ a critical role in preparing individuals for success in life.

Câu 28. A. lot B. wide C. huge D. big

Câu 29. A. friendships B. contacts C. relationships D. links

Câu 30. A. who B. which C. that D. what

Câu 31. A. Although B. While C. For D. However

Câu 32. A. does B. plays C. makes D. takes

Read the following passage and mark the letter A, B, C, or D to indicate the correct answer to each of the questions.

Telecommuting is some form of computer communication between employees' homes and offices. For employees whose job involve sitting at a terminal or word processor entering data or typing reports, the location of the computer is **of no consequence**. If the machine can communicate over telephone lines, when the work is completed, employees can dial the office computer and transmit the material to their employers. A recent survey in USA Today estimates that there are about 8,7 million telecommuters. But although the numbers are rising annually, the trend does not appear to be as significant as predicted when Business Week published —The Portable Executivel as its cover story a few years ago. Why hasn't telecommuting become more popular?

Clearly, change simply takes time. But in addition, there has been active resistance on the part of many managers. These executives claim that supervising the telecommuters in a large work force scattered across the country would be too difficult, or, at least, systems for managing them are not yet developed, thereby complicating the manager's responsibilities.

It is also true that employees who are given the option of telecommuting are reluctant to accept the opportunity. Most people feel that they need regular interaction with a group, and many are concerned that they will not have the same consideration for advancement if they are not more visible in the office setting. Some people feel that even when a space in their homes is set aside as a work area, they never really get away from the office.

Câu 33. With which of the following topics is the passage primarily concerned?

A. The advantages of telecommuting.

B. A definition of telecommuting.

- C. An overview of telecommuting.
D. The failure of telecommuting.
- Câu 34. The phrase "of no consequence" means _____.
A. of no use B. of no good C. unimportant D. unreasonable
- Câu 35. All of the following are mentioned as concerns of telecommuting, EXCEPT _____.
A. the opportunities for advancement.
B. the different system of supervision.
C. the lack of interaction with a group.
D. the workplace is in the employee's home.
- Câu 36. The reason why telecommuting has not become popular is that the employees _____.
A. need regular interaction with their families.
B. are worried about the promotion if they are not seen at the office.
C. feel that a work area in their home is away from the office.
D. are ignorant of telecommuting.
- Câu 37. When Business Week published "The Portable Executive", it implied that _____.
A. systems for managing telecommuters were not effective.
B. there was resistance on the part of many managers about telecommuting.
C. the trend for telecommuting was optimistic.
D. most telecommuters were satisfied with their work.

Mark the letter A, B, C or D to indicate the sentence that is closest in meaning to each of the following sentences.

- Câu 38. Everybody believes that he shouldn't have trusted the people around him so much.
A. He was so credulous that all the people around him could easily deceive him.
B. He now admits that some of the people around him didn't deserve to be trusted at all.
C. Nobody thinks that any of the people around him are honest enough to be trusted.
D. The general opinion is that he made a mistake by having so much faith in the people around him.
- Câu 39. The film didn't come up to my expectations.
A. The film was as good as I expected.
B. I expected the film to be longer.
C. I expected the film to end more abruptly.
D. The film fell short of my expectations.
- Câu 40. The meeting was put off because of pressure of time.
A. The meeting lasted much longer than usual.
B. People wanted to get away, so the meeting began early.
C. The meeting is planned to start in a short time.
D. There was not enough time to hold the meeting.

II. TỰ LUẬN (50 phút)

PHẦN 1: PHẢN ĐÁNH GIÁ NĂNG LỰC TOÁN

Trong một trận bóng đá, đội giành chiến thắng được 3 điểm, đội thua không được điểm; nếu trận đấu kết thúc với tỉ số hòa thì mỗi đội được 1 điểm. Trong vòng bảng, 4 đội thi đấu vòng tròn một lượt. Kết thúc vòng, tổng số điểm ghi được của các đội là 15 điểm. Hỏi vòng bảng có bao nhiêu trận hòa?

PHẦN 2: PHẢN ĐÁNH GIÁ NĂNG LỰC TIẾNG VIỆT

"Cái hình ảnh còn lại trong tôi về cô, đến bây giờ vẫn còn rõ nét. Cô tôi người dong dỏng cao, luôn luôn mặc áo quần đen rách vá. Gặp cô lúc nào cũng thấy cô đội cái rổ lớn trên đầu. Trên chiếc rổ đó, cô thường úp những cái nón mới cô vừa làm xong để mang lên chợ bán. Vì cái rổ có nón úp đó nên nhìn cô càng thấy cao và gầy thêm..." (Cây bánh tét của người cô, Phạm Hồ)

Đoạn trích trên miêu tả người cô, người đã để lại những kỉ niệm sâu sắc trong tâm trí của cậu bé Mười. Còn em, em ấn tượng với người họ hàng nào nhất? Em hãy viết một đoạn văn ngắn (khoảng 100 từ) miêu tả lại người họ hàng đó.

PHẦN 3: PHẢN ĐÁNH GIÁ NĂNG LỰC TIẾNG ANH

Bài 1: Look at the following picture and write a paragraph to describe it in about 80 words.




Bài 2: In about 100 words, write a paragraph about your last summer.

TRUNG TÂM BỒI DƯỠNG KIẾN THỨC TRƯỜNG THCS NGOẠI NGỮ


Địa chỉ duy nhất tại tầng 1 Nhà A2 trường THCS Ngoại ngữ

ĐT liên hệ: 0988.464.286; Zalo: 0988.464.286

Facebook: <https://bit.ly/trungtambdktUMS>



ĐÁP ÁN



HÀ NỘI, 2023

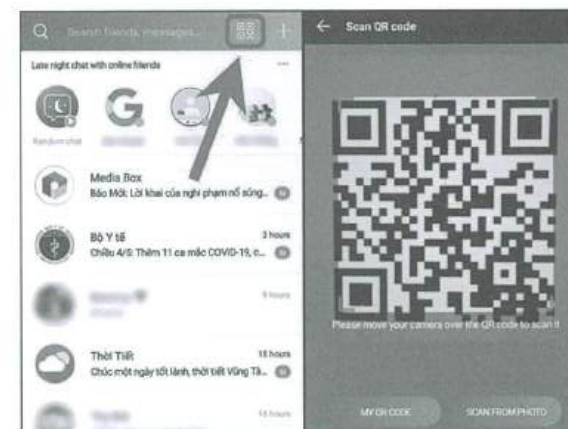
GỢI Ý LÀM BÀI




*Cách sử dụng mã QR Code:

QR Code, viết tắt của Quick response code (tạm dịch “Mã phản hồi nhanh” hay còn gọi là mã vạch ma trận (matrix-barcode là dạng mã vạch hai chiều 2D) có thể được đọc bởi một máy đọc mã vạch hay smartphone (điện thoại thông minh) có chức năng chụp ảnh với ứng dụng chuyên biệt để quét mã vạch.

Một mã QR có thể chứa đựng thông tin một địa chỉ web (URL, thời gian diễn ra một sự kiện, thông tin liên hệ như card, địa chỉ email, tin nhắn SMS, nội dung ký tự văn bản hay thậm chí là thông tin định vị vị trí địa lý). Tùy thuộc vào thiết bị đọc mã QR mà bạn dùng khi quét, nó sẽ dẫn bạn tới một trang web, gọi đến một số điện thoại, xem một tin nhắn... Có nhiều cách để đọc QR code từ điện thoại thông minh, tùy thuộc vào hệ điều hành Android hay IOS, đơn giản và phổ biến nhất là qua ứng dụng Zalo.





TRƯỜNG TRUNG HỌC CƠ SỞ NGOẠI NGỮ

Địa chỉ: Tòa nhà A2, trường ĐH Ngoại ngữ, ĐHQGHN

Số 2, Phạm Văn Đồng, Cầu Giấy, Hà Nội

Website: ums.vnu.edu.vn

TRUNG TÂM BỒI DƯỠNG KIẾN THỨC TRƯỜNG THCS NGOẠI NGỮ

ĐT liên hệ: 0988.464.286; Facebook: <https://bit.ly/trungtambdktUMS>